

ADI SOYADI:
SINIFI NO:



-SUGÖREN ORTAOKULU-
T.C. İnkılap Tarihi ve Atatürkçülük-
Sosyal Bilgiler Hazırlık Testleri



PUAN:

Aşağıdaki tabloda verilen bilgilerin doğru ya da yanlış olduklarını ilgili yerlere örnekteki gibi (✓) işaretini koyarak belirtelim.

| | | D | Y |
|-----|---|---|---|
| 1. | Osmanlı Devleti'nde ilk nüfus sayımı 1831 yılında II. Mahmut Dönemi'nde yapıldı. | | |
| 2. | Ülkemizde ilk nüfus sayımı 1927 yılında yapıldı. | | |
| 3. | Ülkemizde nüfus sayımı ile ilgili çalışmalar TÜBİTAK tarafından yapılmaktadır. | | |
| 4. | Ülkemizde yapılan nüfus sayımlarının temel amacı sadece çalışan nüfusu tespit etmektir. | | |
| 5. | Bir yerde doğum oranı ölüm oranından fazla o yerde nüfus artışı görülür. | | |
| 6. | Ülkemizdeki nüfus artış hızı tamamen devletin kontrolündedir. | | |
| 7. | Ülkemizde genç nüfusun eğitim seviyesi giderek artmaktadır. | | |
| 8. | Ülkemizde nüfusun dağılışında, iklim ve yer şekillerinin etkisi vardır. | | |
| 9. | Ülkemizde yükseltinin fazla olduğu yerlerde nüfus seyrekler. | | |
| 10. | Ülkemizde göçler, daha çok şehirlerden köylere doğru yapılmaktadır. | | |
| 11. | Ülkemizde tarım, sanayi ve ticaretin geliştiği yerlerde nüfus miktarı fazladır. | | |
| 12. | Gelişmiş ülkelerde çalışan nüfusun büyük bir bölümü tarım dışı sektörlerde çalışır. | | |
| 13. | Ülkemizde tarım sektöründe çalışan nüfusun oranı giderek artmaktadır. | | |
| 14. | Belli mevsimlerde çalışmak amacıyla bazı bölgelerimizden diğer bölgelerimize geçici işçi göçleri yapılmaktadır. | | |
| 15. | Bir yerde nüfusun hızlı artışı, konut yetersizliğine neden olur. | | |
| 16. | Ülkemize herkes çalışma ve işini özgürce yapma hakkına sahiptir. | | |
| 17. | Ülkemizde yerleşme ve seyahat özgürlüğü hiçbir zaman sınırlandırılmaz. | | |
| 18. | Anayasa'mızın 2. maddesine göre hiç kimse eğitim ve öğretim hakkında yoksun bırakılamaz. | | |
| 19. | Ülkemizde eğitim ve öğretim faaliyetleri Millî Eğitim Bakanlığı tarafından yürütülmektedir. | | |
| 20. | Ülkemizde herkes, yerleşme ve seyahat hürriyetine sahiptir. | | |

"Biz her şeyi gençliğe bırakacağız... Geleceğin ümidi, ışıklı çiçekleri onlardır. Bütün ümidim gençliktedir."

K. Atatürk

ADI SOYADI:
SINIFI NO:



-SUGÖREN ORTAOKULU-
T.C. İnkılap Tarihi ve Atatürkçülük-
Sosyal Bilgiler Hazırlık Testleri



PUAN:

Aşağıdaki cümlelerde boş bırakılan yerleri verilen kelime ve kelime gruplarından yararlanarak uygun bir şekilde tamamlayalım.

| | | |
|------------------|----------------|-----------------|
| Beyin göçü | Nüfus artışı | Dış göç |
| Mevsimlik göçler | Göç | İş gücü göçleri |
| Nüfus yoğunluğu | Gönüllü göçler | İç göçler |
| Nüfus | Mübadele göçü | Zorunlu göçler |

-; sınırları belirli bir alanda yaşayan insan sayısıdır.
- Herhangi bir yerin o yerde yaşayan toplam insan sayısının o yerin yüz ölçümüne bölünmesiyle bulunur.
-; bir ülkede belirli bir süre içinde insan sayısında meydana gelen artış miktarıdır.
- Ekonomik, toplumsal, siyasi ve doğal nedenlerden dolayı bireylerin ya da toplumların bir yerleşim yerinden başka bir yerleşim yerine geçici ya da kalıcı olarak gitmesine ya da yerleşmesine denir.
-; ülke sınırları içerisinde yapılan göçlerdir.
-; bireylerin ya da ailelerin daha çok tarımın ya da turizmin yoğun olduğu yerlere bir süre çalışmak üzere göç etmeleridir.
-; bir anlaşmanın esaslarına dayanılarak yapılan, ülke nüfuslarının karşılıklı olarak yer değiştirmesi ile oluşan göçtür.
-; insanların çeşitli nedenlerle, kendi istekleri doğrultusunda, sürekli yaşamak için başka ülke veya kıtalara gitmesiyle oluşan göçlerdir.
- Bir ülkeden başka bir ülkeye yapılan göçlere denir.
-; genellikle bilim ve teknolojinin gelişmesine katkıda bulunabilecek nitelikli elemanların daha iyi çalışma olanakları sağlayan ülkelere gitmesiyle oluşan göçlerdir.
-; savaş baskı ve zulümden kaçarak başka ülkelere yapılan göçlerdir.
-; insanların, işsizliğin fazla olduğu geri kalmış ülkelere, iş olanakları fazla olan sanayileşmiş ülkelere gitmesiyle oluşan göçlerdir.

"Biz her şeyi gençliğe bırakacağız... Geleceğin ümidi, ışıklı çiçekleri onlardır. Bütün ümidim gençliktedir."

K. Atatürk

ADI SOYADI:
SINIFI NO:



-SUGÖREN ORTAOKULU-
T.C. İnkılap Tarihi ve Atatürkçülük-
Sosyal Bilgiler Hazırlık Testleri



PUAN:

1-) Ülkemizde Nüfusun Dağılımını Etkileyen Doğal Faktörler

İklim koşulları

.....

.....

.....

Verilen diyagramda boş bırakılan yerlere aşağıdakilerden hangisi yazılamaz?

- A) Yer şekilleri
B) Bitki örtüsü
C) Tarımsal faaliyetler
D) Su kaynakları

2-)

Yetiştirilmesi için büyük kaynak gerektiren veya yetiştiği hâlde ilgisizlik ve imkânsızlık sebebiyle istihdam edilemeyen bilim adamı, hâkim, mühendis vb. gibi vasıflı insan göçünün daha gelişmiş bir ülkeye göç etmesine denir.

Sosyal bilgiler öğretmeninin konuşmasında boş bırakılan yere aşağıdakilerden hangisi yazılmalıdır?

- A) beyin göçü B) gönüllü göç
C) mübadele göçü D) mevsimlik göç

3-) Bir ülkedeki nüfus artışına, o ülkede doğumların ölümlerden fazla oluşu, yurt dışından yapılan göçler ve sağlık hizmetlerindeki gelişmeler önemli katkılar sağlar.

Buna göre, ülkemizdeki nüfus miktarının yıllara göre artmasında aşağıdakilerden hangisinin etkisi olduğu söylenemez?

- A) Çocuk ölümlerinin azalmasının
B) Yurt dışından ülkemize yapılan göçlerin
C) Sağlık hizmetlerinin artmasının
D) Kırsal kesimlerden şehirlere yapılan göçlerin

4-)

Arkadaşlar! Ülkemizde yapılan nüfus sayımının nedenleri nelerdir?



Sosyal bilgiler öğretmeninin sorusuna aşağıdaki öğrencilerden hangisi yanlış cevap vermiştir?

A) Ülkemizin toplam nüfus sayısını öğrenmek

B) Ülkedeki kadın - erkek nüfus dağılımını tespit etmek

C) Nüfusumuzun eğitim durumunu tespit etmek

D) Nüfusumuzun siyasi görüşünü tespit etmek

5-)

- I. Nüfusun eğitim durumu
II. Nüfusun cinsiyet özellikleri
III. Çalışan nüfusun sektörlerle göre dağılımı
IV. Şehirli nüfus oranı

Panoda verilenlerden hangileri bir ülkedeki gelişmişlik düzeyi hakkında bilgi verir?

- A) I ve II B) I ve III
C) II ve IV D) I, III ve IV

6-)

Herhangi bir yerin nüfus yoğunluğunun hesaplanabilmesi için aşağıdakilerden hangilerinin bilinmesi gerekir?

- A) Nüfus miktarı - Nüfus artış hızı
B) Nüfus artış hızı - Yüz ölçümü
C) Yüz ölçümü - Nüfus miktarı
D) Yüz ölçümü - Çalışan nüfus

7-)

Aşağıdaki ifadelerden hangisi yanlıştır?

A) Hızlı göç şehirlerde çevre sorunlarını artırır.

B) Dağlık bölgelerdeki yerleşmeler daha hızlı gelişir.

C) Gelişmiş ülkelerde doğum oranı azdır.

D) Beyin göçü geri kalmış ülkelerde gelişmeyi geciktirir.

8-)

Rize'nin nüfusunun Sivas'tan az olmasına rağmen, nüfus yoğunluğunun daha çok olmasının sebebi nedir?

Öğretmenin sorduğu sorunun cevabı aşağıdakilerden hangisidir?

- A) Rize'nin kıyıda bulunması
B) Sivas'ın yüksek olması
C) Rize'nin yüz ölçümünün küçük olması
D) Sivas'ta karasal iklim görülmesi

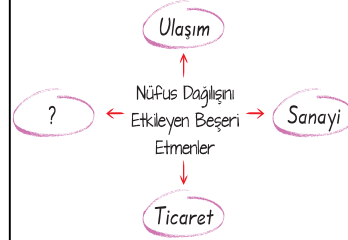
9-) Aşağıdaki tabloda dört bölgenin nüfusları ve yüzölçümleri verilmiştir.

| Bölge | Nüfus | Yüzölçüm (km ²) |
|-------|------------|-----------------------------|
| 1 | 12.000.000 | 102.000 |
| 2 | 9.000.000 | 85.000 |
| 3 | 1.000.000 | 120.000 |
| 4 | 14.000.000 | 72.000 |

Tablodaki bilgilere göre nüfus yoğunluğu en az olan bölge hangisidir?

- A) 1 B) 2 C) 3 D) 4

10-)



Yukarıdaki şemada boş bırakılan alana hangisi yazılabilir?

- A) İklim B) Yeryüzü şekilleri
C) Su kaynakları D) Tarım

11-)

Ülkemizde bir yerleşim alanının nüfusunun artmasında aşağıdakilerden hangisi daha fazla etkilidir?

- A) Tarım - Hayvancılık
B) Sanayi - Ticaret
C) Hayvancılık - Turizm
D) Tarım - Madencilik

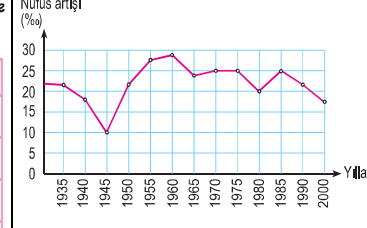
12-)

Bir ülkede nüfusun aşağıdaki özelliklerinden hangisine bakılarak ülkenin gelişmiş düzeyi belirlenemez?

- A) Çalışan nüfusun iş kollarına göre dağılımına
B) Okuma yazma oranına
C) Km²'ye düşen kişi sayısına
D) Kıy ve kent nüfus oranlarına

"Biz her şeyi gençliğe bırakacağız... Geleceğin ümidi, ışıklı çiçekleri onlardır. Bütün ümidim gençliktedir."

13-)



Grafığe göre 1940 - 1945 yılları arasında nüfus artış oranının azalmasında aşağıdakilerden hangisi etkili olmuştur?

- A) Ölüm oranlarının artması
B) Göçlerin artması
C) Genç nüfusunun askere alınması
D) Doğal afetlerin etkisi

14-)

- I. Nüfusun yaş dağılımına
II. Nüfusun ekonomik faaliyet kollarına dağılımına
III. Nüfusun okur-yazar durumuna
IV. Nüfusun kırsal ve kentsel dağılımına

Nüfus sayımı sonucunda yukarıdaki bilgilerden hangilerine ulaşılabilir?

- A) I ve II B) I ve III
C) I, II ve III D) I, II, III ve IV

15-)



Filiz Öğretmen'in tahtaya yazdığı bilgilerden hangisinin günümüzde geçerli bir durum olduğu söylenemez?

- A) I B) II C) III D) IV

16-)

Aşağıdaki tabloda Türkiye'de bazı yıllarda kadınların ekonomik faaliyet kollarına katılma oranları verilmiştir.

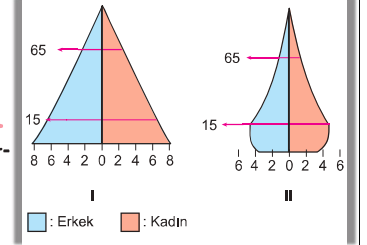
| Yıllar | Tarım (%) | Sanayi (%) | İnşaat (%) | Hizmet (%) | Diğer (%) |
|--------|-----------|------------|------------|------------|-----------|
| 1980 | 87,3 | 4,5 | 0,1 | 7,5 | 0,6 |
| 1990 | 82,1 | 6,8 | 0,1 | 10,8 | 0,2 |
| 2000 | 75,6 | 6,7 | 0,2 | 17,4 | 0,1 |

Bu tabloya bakılarak aşağıdaki yargılardan hangisine ulaşılabilir?

- A) Tarımda çalışan kadın oranı giderek azalmıştır.
B) 1990 - 2000 arası dönemde sanayide çalışan kadın sayısı artmıştır.
C) En fazla artış oranı hizmet sektöründe yaşanmıştır.
D) Kadın nüfusta nitelikli işçi oranı artmıştır.

17-)

Aşağıda iki ülkeye ait nüfus piramitleri verilmiştir.



Piramitlerden yola çıkılarak aşağıdaki yargılardan hangilerine ulaşılabilir?

- I. I. Piramitte doğum oranı daha fazladır.
II. II. Piramit daha gelişmiş bir ülkeye aittir.
III. Her iki ülkede de tarımsal nüfus yoğunlukları aynıdır.

- A) I ve II B) I ve III
C) II ve III D) I, II ve III

18-)

Aşağıdaki kent-fonksiyon eşleştirmelerinin hangisinde hata yapılmıştır?

- A) Ankara - İdari kent
B) Bayburt - Sanayi kenti
C) İstanbul - Ticaret kenti
D) Zonguldak - Maden kenti

[Handwritten signature]