

ADI SOYADI:
SINIFI NO:



-SUGÖREN ORTAOKULU-
T.C. İnkılap Tarihi ve Atatürkçülük-
Sosyal Bilgiler Hazırlık Testleri



PUAN:

PEKİSTİRELİM

Aşağıdaki cümlelerde boş bırakılan yerleri verilen kavramlardan uygun olanları ile tamamlayalım.

Deniz	Ova	Göl
Körfez	Boğaz	Plato
Ada	Dağ	Vadi
Akarsu	Burun	Yarımada

- 1) akarsuyun yatağını aşındırarak oluşturduğu yeryüzü şeklidir.
- 2) kaynak, yağmur veya eriyen kar ve buzul sularıyla beslenen, belirli bir yatak boyunca sürekli veya zaman zaman akan sudur.
- 3) yer kabuğunun çukur bölümlerini kapsayan, birbiriyle bağlantılı tuzlu su kütesidir.
- 4) karalardaki çukurluklarda birikmiş durgun sudur.
- 5) denize dar bir boğaz ile bağlanmış, karanın içine doğru girinti yapmış büyük su parçasıdır.
- 6) Üç tarafı denizlerle çevrili kara parçasına denir.
- 7) çevresine göre daha alçakta yer alan geniş düzlüklerdir.
- 8) Akarsular tarafından derin vadilere yarılmış çevresine göre yüksekte olan geniş düzlüklere denir.
- 9) çevrelerine göre daha yüksek ve tabandan zirveye kadar yamaçları eğimli olan yeryüzü şeklidir.
- 10) Kara parçalarının denizin içine doğru uzanmış bölümlerine denir.
- 11) İki denizi birbirine bağlayan dar su geçitlerine denir.
- 12) Etrafı sularla çevrili kara parçalarına denir.

“Biz her şeyi gençliğe bırakacağız... Geleceğin ümidi, ışıklı çiçekleri onlardır. Bütün ümidim gençliktedir.”

Mustafa Kemal Atatürk

ADI SOYADI:
SINIFI NO:




-SUGÖREN ORTAOKULU-
T.C. İnkılap Tarihi ve Atatürkçülük-
Sosyal Bilgiler Hazırlık Testleri



PUAN:

Ülkemizde görülen yeryüzü şekilleri ile ilgili hazırlanan aşağıdaki bulmacayı çözünüz.



Soldan Sağa

1. Denizin, karanın içine doğru sokulduğu küçük girintilerdir. Körfezin küçüğüdür.
4. Yeryüzünde belirli bir eğim boyunca sürekli veya zaman zaman akan sulardır.
6. Kara üzerinde bulunan çukurların zaman içinde suyla dolması sonucu oluşan yeryüzü şeklidir.
7. Dört tarafı sularla çevrili kara parçasıdır.
10. Kara parçalarının denizin içine doğru uzanmış bölümleridir.
12. Çevresine göre alçakta kalan geniş düzlüklerdir.
13. Okyanusların kara içlerine sokulmuş kollarıdır.

Yukarıdan Aşağıya

2. Üç tarafı sularla çevrili, bir tarafı karayla bağlantılı yeryüzü şeklidir.
3. Yeryüzünün, çevresine göre yüksek olan ve oldukça geniş bir alana yayılan bölümleridir.
5. Çevresine göre yüksekte kalan, akarsular tarafından parçalanmış geniş ve engebeli yüzey şekilleridir.
8. Denizin, karanın içine doğru sokulduğu büyük girintilerdir.
9. İki denizi birbirine bağlayan dar su geçitleridir.
11. Akarsuların yatağını aşındırarak oluşturduğu yeryüzü şeklidir.

“Biz her şeyi gençliğe bırakacağız... Geleceğin ümidi, ışıklı çiçekleri onlardır. Bütün ümidim gençliktedir.”

Mustafa Kemal Atatürk

ADI SOYADI:
SINIFI NO:



-SUGÖREN ORTAOKULU-
T.C. İnkılap Tarihi ve Atatürkçülük-
Sosyal Bilgiler Hazırlık Testleri



PUAN:





- 1-)**
I. Dağ
II. Ova
III. Şelale

Yukarıda verilenlerden hangileri kabartma harita üzerinde gösterilmez?

- A) Yalnız I B) Yalnız 3
C) 1 ve 3 D) 1, 2 ve 3

2-)
Çevresine göre daha alçakta yer alan, akarsu vadileri tarafından yarılmamış geniş düzlüklerdir.

Yukarıda tanımı verilen yeryüzü şeklini aşağıdaki öğrencilerden hangisi doğru yanıtlamıştır?

- A)  Ova
B)  Dağ
C)  Göl
D)  Plato

3-)
Ülkemizin fiziki haritasını inceleyen Umut, aşağıdaki bölgelerimizin hangisinde yükseltinin daha fazla olduğunu fark etmiş olabilir?

- A) Karadeniz Bölgesi'nde
B) Marmara Bölgesi'nde
C) Doğu Anadolu Bölgesi'nde
D) İç Anadolu Bölgesi'nde

4-)
Çevrelerine göre daha yüksek ve tabandan zirveye kadar yamaçları eğimli olan yeryüzü şekli, aşağıdakilerden hangisidir?

- A) Dağ B) Körfez
C) Göl D) Ada

5-)
Ülkemizin fiziki haritasını defterine çizen Kübra, aşağıdakilerden hangisini kahverengi tonları ile boyar?

- A) Antalya Ovası'nı
B) Haymana Platosu'nun
C) Manyas Gölü'nü
D) Erciyes Dağını

6-)
Akarsuyun yatağını aşındırarak oluşturduğu yeryüzü şekline denir.

Panodaki cümlede boş bırakılan yere aşağıdakilerden hangisi yazılmalıdır?

- A) vadi B) plato
C) ova D) akarsu

7-)
Türkiye'nin bir ada değil de, yarımada olmasının nedeni aşağıdakilerden hangisi ile açıklanabilir?

- A) Kuzey kutbuna yakın olması
B) Üç tarafının denizlerle çevrili olması
C) Dört mevsimin belirgin yaşanması
D) Dağlık olanların çok yer kaplamaması

8-)
Haritalardaki kentler, yükseltiler, yollar, yerleşim yerleri ile ilgili bilgiler çeşitli renklerle simgelerle gösterilir. Bu simgelerin ve renklerin anlamları haritanın alt köşesinde (...?...) adı verilen bölümde yer alır.

Bu metinde boş bırakılan yere (...?...) aşağıdakilerden hangisi yazılırsa doğru bir bilgi verilmiş olur?

- A) Ölçek B) Başlık
C) Anahtar D) Yön oku

9-)
Bir fiziki haritada İç Anadolu Bölgesi sarı renkle ifade edilirken, Doğu Anadolu Bölgesi kahverengi ile ifade edilmiştir.

Bu durum, söz konusu bölgelerin aşağıdakilerden hangisi bakımından farklı olduğunu gösterir?

- A) Su kaynakları
B) Jeolojik yapısı
C) Yükselti değerleri
D) Toplam yüz ölçümü

10-)
Bir Türkiye fiziki haritasından yararlanılarak aşağıdakilerden hangisiyle ilgili bilgi edinilemez?

- A) Akarsu vadileri
B) Yüksek alanlar
C) Göller
D) Ormanlık alanlar

11-)
Bir fiziki haritada deniz yüzeyi hangi renklerle gösterilir?

- A) Mavi B) Yeşil
C) Sarı D) Kahverengi

12-)
Fiziki haritalarda renkler aşağıdakilerden hangisini gösterir?

- A) Ormanların dağılışını
B) Yükselti ve derinlik basamaklarını
C) Nüfusun dağılışını
D) İklim tiplerinin dağılışını

13-)
Bir fiziki haritada, bir yöre koyu kahverengi ile gösterilmiştir.

Bu yöreyle ilgili olarak aşağıdakilerden hangisi söylenebilir?

- A) Deniz seviyesindedir.
B) Yükseltisi fazladır.
C) Ovalık bir alandır.
D) Göl alanıdır.


14-)
Bir fiziki haritada beyaz ile gösterilen yerle ilgili olarak aşağıdakilerden hangisi söylenebilir?

- A) Kalıcı karlar vardır.
B) Göl yüzeyidir.
C) Akarsu tabanıdır.
D) Plato yüzeyidir.

15-)
Ahmet haritadan yararlanarak, bulunduğu bölgedeki yer şekillerinin deniz seviyesinden ne kadar yüksek olduğunu öğrenmek istemektedir.

Buna göre Ahmet, aşağıdaki harita türlerinde hangisini kullanmalıdır?

- A) İdari B) Fiziki
C) Siyasi D) Jeoloji



Yukarıdaki yer şeklinin tanımı aşağıdakilerden hangisinde verilmiştir?

- A) Akarsuyun, yatağını aşındırarak oluşturduğu yer şeklidir.
B) Akarsular tarafından derince yarılmış çevresine göre alçakta olan geniş düzlüktür.
C) Karalardaki çukurluklarda birikmiş durgun sudur.
D) Akarsular tarafından derin yarılmış, çevresine göre yüksek olan geniş düzlüktür.

17-)
Bir Türkiye fiziki haritasında Marmara Bölgesi'nde yeşil rengin hakim olduğu gözleniyor.

Bu durum, Marmara Bölgesi'nin hangi özelliğine bir kanıttır?

- A) Ormanların geniş yer kapladığına
B) Yükseltisinin az olduğuna
C) Akarsu vadilerinin fazla olduğuna
D) Göllerin çok olduğuna

18-)
Ülkemizin fiziki haritasının defterine çizen Eda, aşağıdakilerden hangisini kahverengi tonları ile boyar?

- A) Altınbaşak Ovası'nı
B) Beyşehir Gölü'nü
C) Cihanbeyli Platosu'nu
D) Ağrı Dağını

19-)
Akarsular tarafından derince yarılmış, çevresine göre yüksek olan geniş düzlüklerdir.

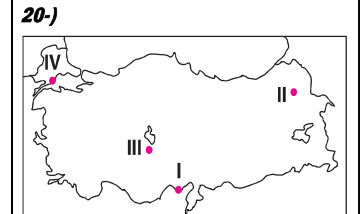


Akarsular tarafından derince yarılmamış, çevresine göre alçakta olan geniş düzlüklerdir.



Yukarıdaki, panolarda sembollerle gösterilen yerlere aşağıdaki seçeneklerde verilenlerden hangileri yazılmalıdır?

- A)  Vadi  Ova
B)  Ova  Plato
C)  Plato  Ova
D)  Plato  Vadi



Yukarıdaki haritada numaralanmış yörelerin hangisi bir fiziki haritada kahverengi ile gösterilir?

- A) I B) II C) III D) IV

21-)
Aşağıdakilerden hangisi kabartma haritalarında gösterilmez?

- A) Van Gölü B) Erciyes Dağı
C) Düden Şelalesi D) Konya Ovası

"Biz her şeyi gençliğe bırakacağız... Geleceğin ümidi, ışıklı çiçekleri onlardır. Bütün ümidim gençliktedir."

U. Ö. Ö.