

ADI SOYADI:.....

NUMARASI:

## TÜRKÇE



Bir gün balıkçıl uzun bacakları üzerinde, su kenarın da dolaşıyordu. Suda bir sazan balığı gördü. Beklemesi gerekliydi çünkü basit yiyecekleri beğenmezdi. Kendi kendine "Sazana mı kaldı, benim gibi kuşların beyi?" diye söylendi.

Balıkçıl böyle düşünürken, sazan ortadan kayboldu. Suda bir kaya balığı belirdi. Bu kez de burnunu büküp "Bu kötü balığa mı kaldım? Nasıl doyarım onunla?" dedi balıkçıl.

Balıkçıl böyle düşünürken, sazan ortadan kayboldu. Suda bir kaya balığı belirdi. Bu kez de burnunu büküp "Bu kötü balığa mı kaldım? Nasıl doyarım onunla?" dedi balıkçıl.

Kaya balığı da süzülüp gitti. Suda tek bir balık bile kalmamıştı. Karnı iyice acıkan balıkçıl, ne bulsa yiyecekti. Sonunda bir sümüklü böcek bulup karnını onunla doydurdu.

(1, 2 ve 3. soruları metne göre cevaplayınız.)

**1- Balıkçıl, sazan balığını gördüğünde niçin beklemesi gerektiğini düşündü?**

- A. Sazan balığının kaçmasını istemediği için
- B. Sazan balığını yemeğe değer bir balık olarak görmediği için
- C. Sazan balığını yakalayacağı doğru zamanı beklediği için

**2- Metnin konusu aşağıdakilerden hangisidir?**

- A. Bir balıkçılın karnını doyurmak isterken yaşadıkları
- B. Bir balıkçılın diğer balıklarla olan arkadaşlığı
- C. Bir balıkçılın su kenarında yaptığı gezinti.

**3- Metnin ana fikri nedir?**

- A. Amacımıza ulaşmak için çok çalışmalı ve sabırlı olmalıyız.
- B. Çevremizdeki hayvanları sevmeli ve korumalıyız.
- C. Elimizdekilerle yetinmeyi bilmezsek var olanları da kaybederiz.

**4-Aşağıda verilen cümlelerin hangisinde zıt anlamlı kelimeler bir arada kullanılmıştır?**

- A-Günler kısaltmaya, havalar soğumaya başladı.
- B-Sonbaharda, neredeyse her gün yağmur yağıyor.
- C-ince kıyafetleri çıkarıp, kalın kıyafetler giymeye başladık.

5. "Bu sorular çikolatadan daha tatlı." cümlesinde kaç hece vardır?

A-5

B-13

C-14

6.aşağıdaki kelimelerden hangisi yanlış hecelenmiştir?

- A. T-rab-zon
- B. Ga-la-ta-sa-ray
- C. An-tal-ya

7. Hangisi "cevap" sözcüğünün eş anlamıdır?

- A. yanıt
- B. soru
- C. sual

8-Aşağıdaki kelimelerin hangisinde hem kalın hem ince ünlü ses vardır?

- A-karanlık
- B-domates
- C-geceler

9-"Babam akşam eve geç geldi." Cümlesinde aşağıdaki sorulardan hangisinin cevabı yoktur?

- A-Kim?
- B-Ne zaman?
- C-Neden?

10-Türkçemizde kaç tane ünlü (sesli) harf vardır?

- A-21
- B-8
- C-27

11-Ağzımızdan bir çırpıda çıkan ses ya da ses gruplarından ne denir?

- A- harf
- B-sözcük
- C-hece

12-Bir şiirde dört dizeden meydana gelen bölüme ne ad verilir?

- A-dörtlük
- B-satır
- C-paragraf

13- "yurdumun " sözcüğü satır sonuna sığmadığında nasıl bölünmelidir?

- A.yurd-umun
- B.yurdum - un
- C.yurdu – mun

14- "Tuana, özenle hazırladığı yazıyı kardeşinin elinde yırtılmış halde görünce çok ....."  
cümlesinde noktalı yere hangi sözcük gelince anlamda bozulma olmaz?

- A) sevindi. B) üzüldü. C) gitti.

15.

**Makas Pense Düdük Balta**  
Yukarıda verilen kelimeler sözlük sırasına göre sıralandığında sıralama nasıl olur ?

- A) Makas - Pense - Düdük - Balta  
B) Balta - Düdük - Pense - Makas  
C) Balta - Düdük - Makas - Pense

ADI SOYADI:.....

## MATEMATİK

1- 245,365,403,199 sayılarının küçükten büyüğe sıralanışı hangi seçenekte doğru olarak verilmiştir?

- A-199<403<365<245  
B-199<365<245<403  
C-199<245<365<403  
D-199<245<403<365



2-

Yukarıdaki sayının okunuşu hangisidir?

- A) Yedi kırk sekiz  
B) Yedi yüz sekiz  
C) Yedi yüz kırk sekiz

3- 356 ve 242 sayılarını yüzlüğe yuvarlayıp toplarsak, toplamının sonucu kaç eder?

- A-600  
B-650  
C-700

4- 947 sayısının sayı çözümlemesi hangi seçenekte doğru verilmiştir?

- A-900+40+7  
B-400+90+7  
C-700+90+4



5.

" Yukarıdaki rakamları birer defa kullanarak yazılabilecek en büyük 3 basamaklı sayı hangisidir?

- A) 425  
B) 452  
C) 542

6. "358" sayısında "3"ün basamak değeri kaçtır?

- A. 300  
B. 30  
C. 3

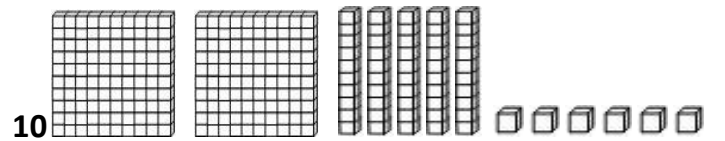
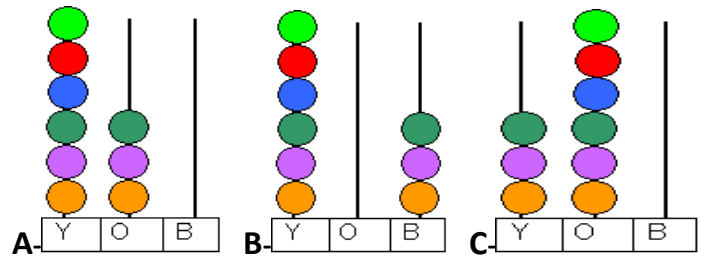
7. Hangi sayı en yakın yüzlüğe yuvarlandığında "400" olmaz?

- A. 450  
B. 350  
C. 438

8. "9-0-5" rakamlarını bir kez kullanarak yazılabilen üç basamaklı en küçük sayının sayı değerleri toplamı kaçtır?

- A. 059  
B. 14  
C. 95

9. Aşağıdaki abaküslerden hangisinde "altı yüz otuz" sayısı gösterilmiştir?



10

Yukarıdaki taban bloklarıyla oluşturulan doğal sayı aşağıdakilerden hangisidir?

- A) 156  
B) 151  
C) 256

11.-" 123" sayısında hangi rakamın basamak değeri en küçüktür ?

- A) 1 B) 2 C) 3

12-) "32□" doğal sayısı en yakın onluğa yuvarla-nınca 330 oluyor. Buna göre □ yerine hangi rakam yazılamaz?

- A) 9  
B) 5  
C) 1

13-"A > 224" ifadesinde A yerine gelebilecek sayılardan en küçük olan doğal sayı kaçtır?

- A) 224  
B) 225  
C) 242

14-3 birlik, 5 yüzlük ve 8 onluktan oluşan sayı kaçtır?

- A.358  
B. 583  
C. 538

15-Onlar basamağında 5 olan, üç basamaklı en küçük doğal sayı kaçtır?

- A.959  
B.050  
C.150

ADI SOYADI:.....

### HAYAT BİLGİSİ

1-Aşağıdaki yargılardan hangisi doğrudur?

- A-Herkesin yeteneği aynıdır.  
B- Olumsuz davranışlar bize arkadaş kazandırır.  
C- Zayıf yönlerimizi de güçlendirmeliyiz.

2-Aşağıdakilerden hangisi iyi bir arkadaşta bulunan özelliklerden biri değildir?

- A-Güvenilirdir.  
B- Alaycıdır.  
C- Hoşgörülüdür.

3-Yüzme bilmeyen Umut aşağıdakilerden hangisini yapmamalıdır?

- A-Tek başına derin sularda yüzmemelidir.  
B-Yüzme kursuna gitmelidir.  
C-akarsuda yüzmeyi kendi kendine öğrenmelidir.

4. Arkadaşlıkla ilgili,

1. Grup çalışmalarında yardımcı olmak
2. Sevinç ve üzüntüleri paylaşmak
3. İstediginde yardımda bulunmak

davranışlarından hangileri doğrudur?

- A. 1 ve 2 B. 2 ve 3 C. 1, 2 ve 3

5. Aşağıdakilerden hangisi arkadaşlarımızla iletişim kurarken kullanabileceğimiz ifadedir?

- A. Ödevimde bana yardım eder misin?  
B. Ödevim için bana yardım et.  
C. Ödevimi yapmam için bana yardım edeceksin.

6) Aşağıdaki davranışlardan hangisi duyarlı bir bireyden beklenmez?

- A) Karşidan karşıya geçmek isteyen yaşlı bir amcaya yardım etmek.  
B) Televizyonun sesini duyabileceği kadar açmak.  
C) Sıradaki arkadaşının yerini kapmak.

7) Aşağıdaki ifadelerden hangisinde bireysel farklılıklardan söz edilmektedir?

- A)Elif ile birlikte çok güzel resim yaptık.  
B)Ben kırmızı kazağı beğendim, Eda maviyi.  
C)Evden farklı saatlerde çıkmışız.

1. sevgi
2. kızgınlık
3. nefret
4. saygı
5. dostluk
6. kavg

8-Yukarıdakilerden hangileri birbirine saygılı davranan kişiler arasında görülür?

- A.) 1-4 -5 B.) 1- 3 -5 C.)4 -5 -6



9-

Yukarıdaki krokiye göre otoparkın batısında aşağıdakilerden hangisi vardır?

- A) Market B) Sağlık ocağı C) Manav

10. Yiğit , arkadaşı Beşir'in yere düştüğünü görünce onun yanına giderek ayağa kalkmasına yardım etti.

**Sizce bu davranış nasıl adlandırılır?**

- A. yardımseverlik
- B. hoşgörü
- C. saygı

ADI SOYADI:.....

### FEN BİLİMLERİ



1. Dünya'nın şekli aşağıdakilerden hangisine benzemektedir?

- A)  B)  C) 

I. Eski Mısırlılar ,Dünya'nın büyük bir kutuya benzediğine inanıyorlardı.

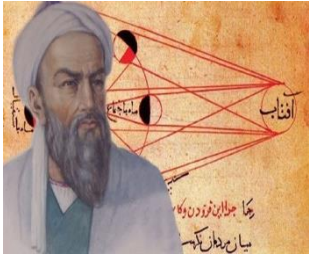
II. Eskiden çağlarda insanlar ,Dünya'yı düz bir tepsi sanıyorlardı.

III. İnsanlar eski çağlardan beri Dünya'nın şeklini küreye benzediğine inanıyorlardı.

2-Yukarıda verilen bilgilerden hangisi ya da hangileri doğrudur ?

- A) I – II    B) II – III    C) I – II – III

- I. Türk ve Müslüman bilim insanıdır.
- II. Dünya'mızın küreye benzediğini söylemiştir.
- III. Yer çekiminin varlığını ortaya koymuştur.




3-Yukarıdaki özellikler aşağıdakilerden hangisine aittir.

- A) Farabi  
B) Biruni  
C) İbni Sina

4) Hangisi Ateş küre(magma) katmanının özelliklerinden **değildir**?

- A) Gezenimizin en sıcak bölümüdür.
- B) Yer kabuğunun altında bulunur.
- C) Yüksek sıcaklık nedeniyle erimiş kayalardan oluşur.



5.

Yaklaşan bir geminin önce dumanını, sonra bacasını ve en sonra da tamamını görürüz.

Bu dünyanın ..... olduğunu ispatlar.

**Yukarıdaki boşluk hangi ifade ile doldurulabilir?**

- A) Daire    B) Küre    C) küp

6-) Dünya'nın yuvarlak olduğunu ilk iddia eden bilim insanı kimdir?

- A. Kristof Kolomb  
B. Pisagor  
C. Macellan

7-) Dünya'ya uzaydan bakıldığı zaman, en çok mavi renk görünür. **Bu durumun temel sebebi hangisidir?**

- A) Hava tabakasının olmamasından  
B) Karaların denizlerden daha fazla olması  
C) Su alanlarının karalardan daha fazla olması.

8-) Sahile doğru yaklaşan bir gemiye baktığımızda önce geminin direkleri görülür. Daha sonra gövdesini görürüz.

**Yukarıdaki bilgiye bakarak; bu durum aşağıdakilerden hangisinin kanıtıdır?**

- A) Denizlerin tuzlu olduğunu  
B) Gemilerin çok hızlı hareket ettiğini  
C) Dünya'nın yuvarlak olduğunun

9-) Aşağıdakilerden hangisi dünya modelinden çıkarılabilecek doğru bir ifade **değildir**?

- A) Dünya'da denizler karalardan daha büyük bir alan kaplamaktadır.  
B) Dünya **geoit** şeklindedir. (kutuplardan basık)  
C) Karalar siyah, denizler kırmızı renktedir.



10-İlk uzay teleskobunu geliştiren bilim insanı kimdir ?

- A-Macellan  
B-Galileo  
C-Kopernik