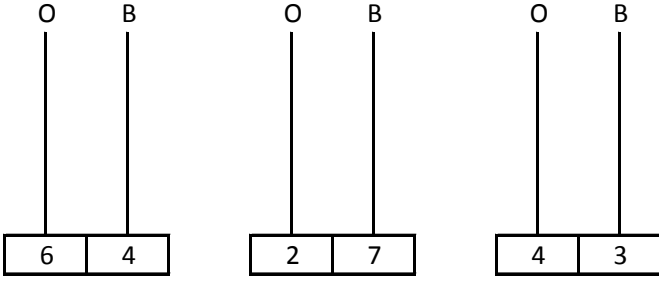


S1. Verilen sayıları abaküste gösterelim.



S2. " 54 " sayısının basamak değeri farkı kaçtır?

S3. " 93 " sayısının basamaklarında bulunan sayılar yer değiştirdiğinde elde edilen yeni sayının, basamak değeri farkı kaç olur?

S4. Aşağıda verilen tabloyu dolduralım.


4 onluk birlik onluk birlik
	beş	seksen	iki
	5		

S5. " 77 " sayısının birler basamağındaki rakamın sayı değeri 4 eksilirse yeni sayı kaç olur?

S6. Aşağıda boş bırakılan yerlere uygun sayılar yazıp ritmik saymayı tamamlayalım.




S7. Verilen sayıların, **sayı değerlerini** yazalım.



S8. " Otuz sekiz " sayısının, sayı değeri farkı kaçtır?

S9.



Yukarıdaki sayı örüntüsünün kuralını yazalım.

S10. Aşağıda verilen sayıların en küçüğünün sayı değeri toplamı kaçtır?



En küçük sayı:

Sayı Değeri toplamı

TÜRKÇE

GERÇEK DOST

Tamer ve Selim ormanda geziyorlardı. Birden bire önlerine kocaman beyaz bir ayı çıktı. Tamer ayıyı görünce hemen yanındaki ağaca tırmandı. Yaprakların arasında bir güzel saklandı.

Selim aşağıda yalnız kaldı. Kaçacak yeri yoktu. Çaresizlikten kendini yere attı ve yerde ölü gibi hiç kımıldamadan yattı. Ayı, Selim'in yanına geldi. Selim'in burnunu, kulaklarını kokladı. Daha sonra homurdanarak başını salladı ve gitti.

Ayı gidince ağaca saklanan Tamer yere indi ve Selim'in yanına geldi. Gülerek ona " O ayı senin kulağına bir şeyler söyledi. Ne söylediğini bana söyler misin? " dedi. Selim ise Tamer'e kızarak " Tehlike sırasında seni yalnız bırakanlarla bundan sonra arkadaş olma. " dedi.

SORULAR

S1. Tamer ile Selim nerede geziyorlarmış?

S2. Aşağıda kim yalnız kalmış?

S3. Selim yerde ne yaparak kurtulmuş ?

S4. Ormanda çocukların karşlarına ne çıkmış ?

S5. Tamer ayıyı görünce nereye saklandı?

S6. Selim, ayı ile karşılaşınca neden yere yatıyor?

S7. Metin (Parça) kaç cümleden oluşur?.....

S8. Metnin 6. cümlesinde kaç hece vardır?.....

S9. " **Yaprakların arasında bir güzel saklandı.** " cümlesindeki sözcüklerden hangisi alfabetik sıraya göre en sonda yer alır?

ÖDEV KAĞIDI (Cuma)

S10. Aşağıda verilen cümlelerin hece sayısını yazalım.

- a) Yüze kadar sayabiliyordu. ()
 b) Dil sınavın nasıl geçti? ()
 c) Annemin dizi ağrıyordu. ()
 ç) Köpekler geliyor, hemen kaç ! ()
 d) Kutunun içi doluydu. ()

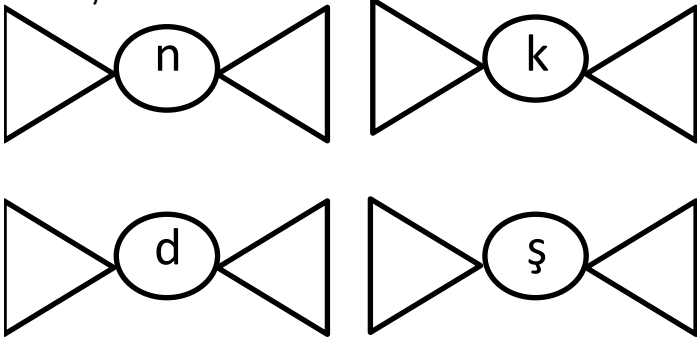
S11. Aşağıda verilen sözcüklerin eş anlamlarını yazalım.

- a) kocaman = _____ g) sonbahar = _____
 b) beyaz= _____ ğ) köpek = _____
 ç) hemen= _____ h) atık = _____
 d) saklanma= _____ ı) sözcük = _____
 e) baş= _____ i) hür = _____
 f) mektep= _____ j) merkep = _____

S12. Aşağıda verilen tabloyu dolduralım.

Sözcükler	İnce sesli harfler	kalin sesli harfler
Tamer		
geziyorlardı		
beyaz		
yanındaki		
çaresizlikten		
alfabetik		

S13. Aşağıda verilen harflerden bir önce ve bir sonra gelenleri yazalım.



S14. " Tarladan mısırları topladı." cümlesi kaç sestem (harften) oluşur?

S15. " Üzerinde eski bir elbise vardı." cümlesindeki sözcükleri alfabetik olarak sıralayıp yeniden yazalım.

1. _____ 3. _____ 5. _____
 2. _____ 4. _____

S16. "Yeni kitabını okumak için sabırsızlanıyordu." cümlesi kaç sözcükten (kelimedem) oluşur?

HAYAT BİLGİSİ

d	e	f	t	e	r	k	o	t	a	ç
r	s	u	l	u	b	o	y	a	y	u
c	e	t	v	e	l	t	e	l	z	i
ö	n	k	o	ç	a	n	t	a	k	o
n	s	i	l	g	i	y	t	s	i	m
k	i	r	a	b	a	k	ü	s	e	t

S1. Yandaki bulmacada hangi okul eşyanızın adı **yoktur**?

- a) kitap
 b) çanta
 c) sulu boya

S2. " Hangi gün hangi dersin işleneceği tabloya..... denir." Cümlesinde boş bırakılan yere hangisi yazılır?

- a) Ödev

S3. Okul kuralları b) Ders Programı c) Teneffüs

- a) Öğretmenler istediği için.
 b) Okulda düzeni sağlamak için.
 c) Dengeli beslenmek için.

S4. Aşağıdakilerden hangisi olumlu bir davranıştır?

- a) Arkadaşlarımızın fiziksel özellikleriyle alay etmek.
 b) Bulduğumuz çevreyi temiz tutmak.
 c) Arkadaşımızın eşyasını izinsiz almak.

S6. Yandaki ders programına göre çantasını hazırlayan, Yiğit Can'ın çantasında aşağıdaki eşyalardan hangisini **bulamaz**?

- a) sulu boya
 b) sözlük
 c) abaküs

Salı
Türkçe
Türkçe
Matematik
Matematik
Hayat Bilgisi
Müzik

S7. Yandaki verilen olayların, oluş sırası hangi seçenekte verilmiştir?

- kahvaltı yapmak.
 ◆ okula zamanında gitmek.
 ■ vaktinde uyanmak.

- a) ● ■ ◆ b) ◆ ● ■ c) ■ ● ◆

S8. Aşağıdakilerden hangisi kişisel özelliklerimiz arasında yer **almaz**?

- a) kumral olmak
 b) iyi satranç oynamak
 c) müzik dinlemeyi sevmek

S9. Aşağıdaki ifadelerden **yanlış olan** hangisidir?

- a) Aynı sınıftaki öğrencilerin yetenekleri de aynıdır.
 b) Farklılıklar bizi eşsiz ve özel yapar.
 c) Fiziksel özellikleri birbirine benzeyen insanlar olabilir.