

GÜVENDE OYNAYALIM

Temiz ve güvenilir bir ortamda oyun oynamak bütün çocukların hakkıdır. Oyun oynamak için güvenli yerler, parklar, bahçeler ve trafiğin olmadığı boş alanlardır. Trafik akışının olduğu yerlerde oynamak son derece tehlikelidir.

Bisiklet, kaykay ve paten gibi araçları kullanan çocuklar kask, dizlik ve dirseklik gibi koruyucu araçları da kullanmalıdır. Bu oyunları başkalarını rahatsız etmeden ve tehlikeli hareketler yapmadan oynamaya dikkat etmelidir.



Çocuk parkında oynarken salıncak, kaydırak ve tahterevallili gibi oyuncakları kontrol ederek ve sırayla kullanmalıyız. Bu oyuncakları başkalarının da kullanacağını unutmamalı, zarar vermemeliyiz.

- 1-Güvenli oyun yerleri nerelerdir?.....
.....
- 2-Bisiklet sürerken nelere dikkat etmeliyiz?.....
.....
- 3-Çocuk parkında oynarken nelere dikkat etmeliyiz?.....
.....

Cümlelerden kurallı olanlara K, devrik olanlara D yazın.

İyi dinlemeliyiz öğretmenimizi.	
İstiklal Marşı'nı Mehmet Akif Ersoy yazdı.	
Kurtuluş Savaşı 19 Mayıs 1919'da başladı.	
Sıkı giyinmeliyiz hasta olmamak için.	
Gördün mü yaptığını?	
Oynamak için güvenli yerleri seçmeliyiz.	
Kaskını taktın mı bisiklet sürerken?	
23 Nisan'ı kutladık hep birlikte.	

Yanlış yazılan sözcükleri düzeltin.

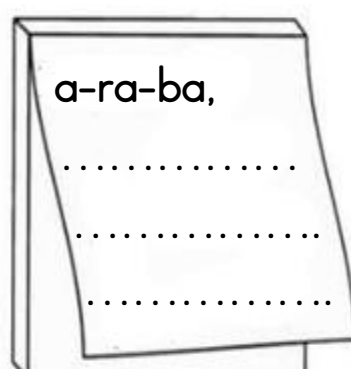

herkez	
sipor	
yalniş	
herşey	
püsküvit	
çukulata	
gaste	

1 heceli sözcükler

2 heceli sözcükler

3 heceli sözcükler

4 heceli sözcükler




Çarpalım

$$\begin{array}{r} 2 \\ \times 8 \\ \hline \end{array}$$
$$\begin{array}{r} 2 \\ \times 4 \\ \hline \end{array}$$
$$\begin{array}{r} 9 \\ \times 2 \\ \hline \end{array}$$
$$\begin{array}{r} 7 \\ \times 2 \\ \hline \end{array}$$

$$\begin{array}{r} 2 \\ \times 3 \\ \hline \end{array}$$
$$\begin{array}{r} 2 \\ \times 2 \\ \hline \end{array}$$
$$\begin{array}{r} 8 \\ \times 2 \\ \hline \end{array}$$
$$\begin{array}{r} 2 \\ \times 5 \\ \hline \end{array}$$

$$\begin{array}{r} 2 \\ \times 2 \\ \hline \end{array}$$
$$\begin{array}{r} 2 \\ \times 3 \\ \hline \end{array}$$
$$\begin{array}{r} 1 \\ \times 2 \\ \hline \end{array}$$
$$\begin{array}{r} 2 \\ \times 9 \\ \hline \end{array}$$

$$\begin{array}{r} 8 \\ \times 2 \\ \hline \end{array}$$
$$\begin{array}{r} 2 \\ \times 3 \\ \hline \end{array}$$
$$\begin{array}{r} 2 \\ \times 6 \\ \hline \end{array}$$
$$\begin{array}{r} 2 \\ \times 9 \\ \hline \end{array}$$



Bölelim, paylaşalım.



Dondurmalar toplam kaç tane?

Dondurmalar kaç gruba ayrılmış?

Her grupta kaç dondurma var?



Pastalar toplam kaç tane?

Pastalar kaç gruba ayrılmış?

Her grupta kaç pasta var?

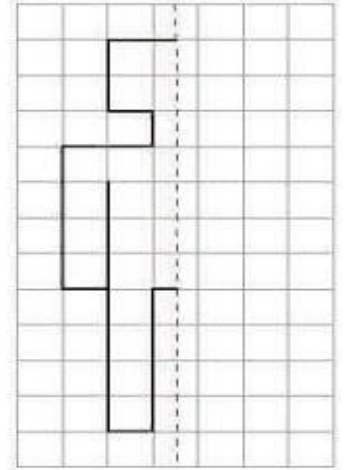


Dürümler toplam kaç tane?

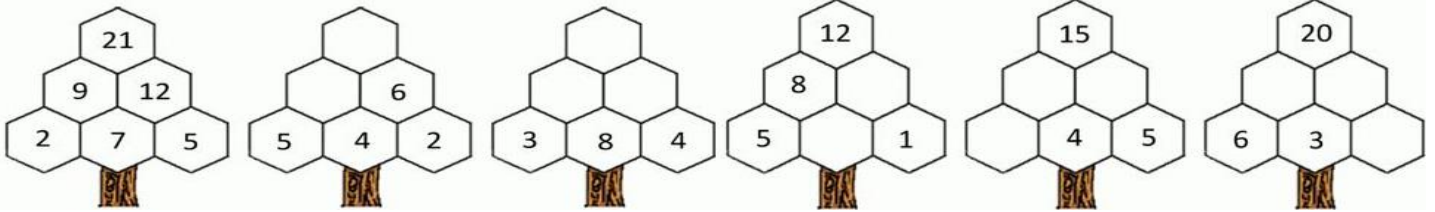
Dürümler kaç gruba ayrılmış?

Her grupta kaç dürüm var?

Simetrisini çiz



Topla, bul



Aşağıdaki problemleri matematik defterine yazın ve çözün.

- 1- 6 doğal sayısının 3 katı kaçtır?
- 2- 4 doğal sayısının 4 katının 3 eksiği kaçtır?
- 3- İki kedi ile üç tavuğun ayak sayıları toplamı kaçtır?
- 4- Günde 5 litre süt veren inek, bir haftada kaç litre süt verir?
- 5- Bir basamaklı sayıların en büyüğünün 4 katı kaçtır?

