

ÖDEV KAĞIDI 3

S1. Aşağıda basamaklarındaki rakamlar verilen sayıları altındaki kutucuklara yazalım.

onlar basamağı 5
birler basamağı 3

--	--

birler basamağı 4
onlar basamağı 8

--	--

birler basamağı 8
onlar basamağı 1

--	--

onlar basamağı 2
birler basamağı 6

--	--


S2. Birler basamağında 5 olan en küçük, iki basamaklı sayının 6 eksiği kaçtır?

o	b



S3. Sayıları onluk ve birlik olarak çözümleyelim.

- a) 43 :onluk +birlik
b) 27 :onluk +birlik
c) 15 :onluk +birlik
ç) 96 :onluk +birlik

S4. Verilen varlıkları bir deste olacak şekilde tamamla.



S5. Verilen varlıkları bir düzine olacak şekilde tamamla.



S6. 18' den başlayarak ileri doğru 3 'er ritmik sayarken söylediğimiz 5. sayı kaçtır?

1.	2.	3.	4.	5.

S7. Yanda verilen sayıların en büyüğü ile en küçüğünün toplamı kaçtır?

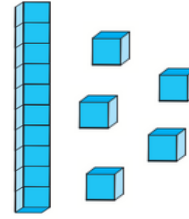
13	9
7	4
10	4

S8. 4'er ritmik sayarken 27'den bir önce ve bir sonra gelen sayının toplamı kaçtır?

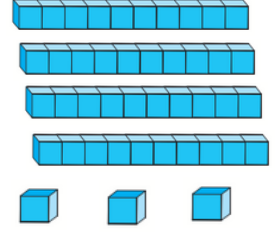
	27	
--	----	--

Toplamı

S9. Taban blokları ile verilen sayıları yazalım.



o	b



o	b

S10. Aşağıda çözümlenmiş sayıları rakamla yazalım.

- a) 4 birlik + 8 onluk : _____ e) 5 onluk + 6 birlik : _____
b) 3 onluk + 1 birlik : _____ f) 2 onluk + 4 birlik : _____
c) 5 birlik + 9 onluk : _____ g) 8 birlik + 3 onluk : _____
ç) 2 birlik + 7 onluk : _____ ğ) 4 birlik + 1 onluk : _____
d) 6 onluk + 8 birlik : _____ h) 7 onluk + 3 birlik : _____

TÜRKÇE

Bana Mı İnanıyorsun Eşeği Mi?

Adamın biri Hoca'ya:

-Hocam, şu senin eşeğini bir günlüğüne bana verir misin? Ormandan biraz odun getireceğim, der.

Hoca, eşeğini vermek istemez. Adama:

-Eşek evde yok, der.

Tam bu sırada eşek ahırda anırmaya başlar. Anırma sesini duyan adam:

-Aşk olsun Hocam, bunca yıllık komşuyuz. Eşeğin evde olmadığını söylüyorsun. Bak işte ahırdan sesi geliyor, der.

Hoca, hemen cevabı yetiştirir:

-Adam, senin yaptığın da iş mi? Saçı sakalı ağarmış Hoca'ya değil de eşeğe mi inanıyorsun? Der.

SORULAR

S1. Adam, Hoca'dan eşeğini niçin istiyor?

S2. Hoca, neden zor durumda kalır?

S3. Eşeğin sesi nereden geliyor?

S4. Metin (Parça) kaç cümleden oluşur?

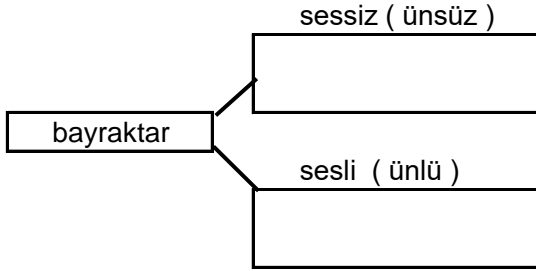
S5. " Adam, senin yaptığın da iş mi?" cümlesindeki sözcüklerden hangisi alfabetik sıraya göre en sonda yer alır?

ÖDEV KAĞIDI 3

S6. Aşağıdaki tabloda ünsüz harfle başlayıp ünlü harfle biten sözcükleri boyayalım.

tarla	sözcük	Atatürk	sarı
yaprak	masa	ilim	kuş
berk	değer	peynir	Pazartesi
kirli	matematik	nane	kamyon

S7. Aşağıda verilen sözcükteki sesli ve sessiz harfleri belirtilen boş yerlere yazalım.



S8. Verilen tabloda kalın ve ince ünlülerin bir arada bulunduğu sözcükleri boyayalım.

besin	şifre	çare	umre
taze	potin	kayıp	eşya
ekmek	alkış	bonfile	boşluk

S9. " Bir sene sonra fideler boy attı." cümlesinde tek heceli sözcükler hangileridir?

S10. Aşağıda satır sonuna sığmayan sözcüğü iki farklı şekliyle yazalım.

a) b)

rakamlar
_____ - _____
_____ - _____

S11. Aşağıda karışık olarak verilen sözcüklerle anlamlı ve kurallı bir cümle yapalım.

" meyve - başladı - dört - sonra - yıl - vermeye "

S18. Verilen ifadeler doğruysa (D) , yanlışsa (Y) yazalım.

(.....) İnce ünlü sesler a, e, i, o, ü ' dür.

(.....) Hecelerde anlam aranmaz.

(.....) Türkçe'de bir hece en çok üç sestenden oluşur.

(.....) Alfabemizde " G " sesi, " B " sesinden önce gelir.

HAYAT BİLGİSİ

S1. Leyla ile Eda'nın hangi fiziksel özelliğinin kesinlikle aynı olması beklenir?

a) Göz rengi b) Saç uzunluğu c) Cinsiyeti

S2. Aşağıdakilerden hangisi okul kurallarına uyan bir öğrencinin davranışıdır?

a) Tebeşirleri rastgele etrafa fırlatmak.
b) Okul koridorlarını ve sınıfı temiz tutmak.
c) Çöpleri yere atmak.

S3. Hangisi kişisel bir özellik değildir?

a) Sabırlı olmak
b) Uzun boylu olmak
c) Dürüst olmak

S4.

Ten rengimiz	Sinirli olmak
Şişman olmak	Gözlük takmak

Yukarıdaki tablodan fiziksel özelliklerimize ait olmayan kısmı çıkarırsak, tablo nasıl görünür?

a)

b)

c)

S5. " Salih, iyi göremediği için gözlük takıyor. "

Yukarıdaki ifadeye göre, hangi seçenek yanlış olur?

a) Gözlük takan arkadaşımızla oyun oynamamalıyız.
b) Salih'le oyun oynarken gözlüğüne dikkat ederiz.
c) İnsanların farklı özelliklerine saygı göstermeliyiz.

S6. İkinci sınıf öğrencisi olan Esmâ, aşağıdakilerden hangisini yalnız başına yapamaz?

a) Yemek pişirme
b) Odasını toplama
c) Masayı toplamaya yardım etme.

S7. Yeni bir arkadaş edinirken hangi kişisel özelliğinin olmasını istemeyiz?

a) Yardımsever olması.
b) Müzik aleti çalabilmesi.
c) Çok güvenilir olması.

S8. Aşağıda verilen özelliklerden hangisi diğer insanlarla ortak, benzer bir özelliğimiz olabilir?

a) Uyumamız
b) Yeteneklerimiz
c) İsteklerimiz