

S1. Aşağıda verilen işlemleri yapalım.

$$\begin{array}{r} \square \\ 3 \ 9 \\ + 4 \ 5 \\ \hline \end{array} \quad \begin{array}{r} 2 \ 6 \\ + 2 \ 4 \\ \hline \end{array} \quad \begin{array}{r} 8 \ 7 \\ - 1 \ 5 \\ \hline \end{array} \quad \begin{array}{r} 6 \ 6 \\ - 4 \ 6 \\ \hline \end{array}$$

S2. Aşağıdaki toplama işlemlerinde verilmeyen sayıları bulalım.

$$\begin{array}{r} \square \\ + 5 \\ \hline 1 \ 1 \end{array} \quad \begin{array}{r} 9 \\ + \square \\ \hline 1 \ 2 \end{array} \quad \begin{array}{r} 6 \\ + \square \\ \hline 9 \end{array} \quad \begin{array}{r} 7 + \square = 10 \\ \square + 4 = 8 \end{array}$$

S3. Aşağıdaki sayıları karşılaştıralım. (<, >, =)

15	56	90	48
88	74	13	13
12	11	59	62

S4. Yanda verilen sayıya, 5 birlik, 1 onluk eklersek, yeni sayı kaç olur?

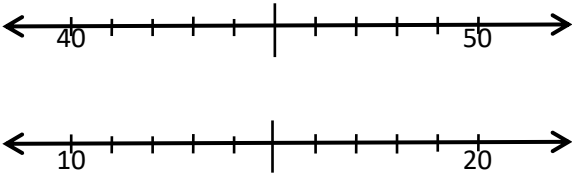


S5. Aşağıdaki sayıları büyükten küçüğe doğru sırala.

53	91	64	78
----	----	----	----

..... > > >

S6. Verilen onluklar arasındaki sayıları yazalım.

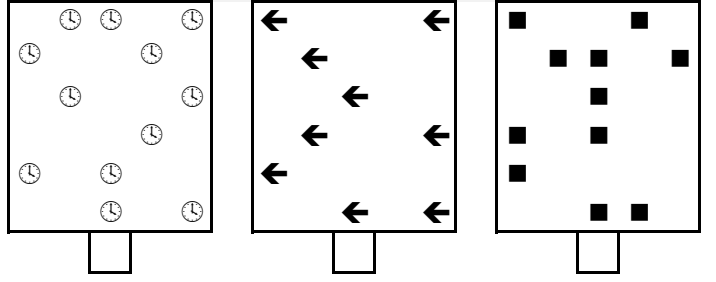


S7. Babamın yaşı, 3 düzineden 7 fazladır. Babamın yaşı kaçtır?

S8. 32'den başlayarak geriye doğru 4'er ritmik sayarken söylediğimiz 6. sayı kaçtır?

1.	2.	3.	4.	5.	6.
----	----	----	----	----	----

S9. Verilen gruplardan 1 düzine olanı işaretleyelim.

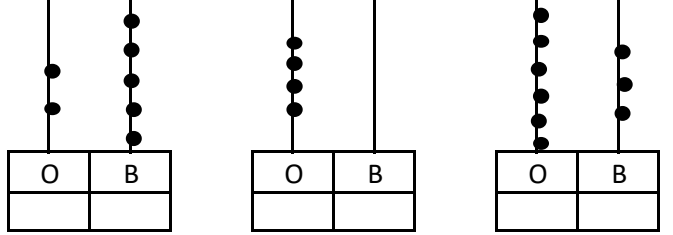


S10. 4 birlik 3 onluk ile, 1 onluk 9 birliğin toplamı kaçtır?

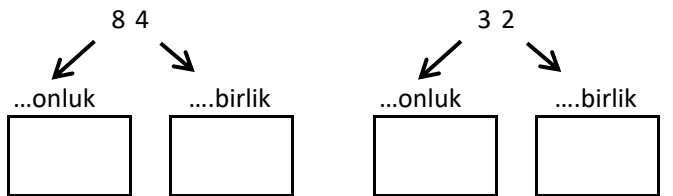
S11. Aşağıda çözümlenmiş sayıları rakamla yazalım.

- a) 5 birlik + 3 onluk : _____ e) 9 onluk + 6 birlik : _____
 b) 1 onluk + 8 birlik : _____ f) 5 onluk + 1 birlik : _____
 c) 2 birlik + 7 onluk : _____ g) 0 birlik + 8 onluk : _____

S12. Aşağıdaki abaküsle gösterilen sayıları yazalım.

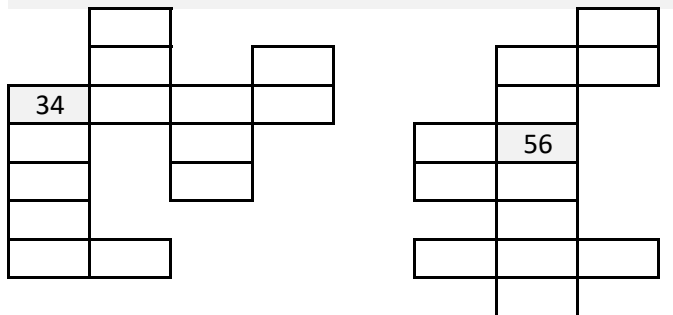


S13. Aşağıda verilen sayıların basamak değerlerini yazalım.



S14. "Kırk sekiz" sayısının, sayı (rakam) değeri toplamı kaçtır?

S15. Aşağıda 100'lük tablonun bazı bölümleri verilmiştir. Buna göre, tabloda eksik olan sayıları yazalım.



TÜRKÇE

- S1. "Geçen yıl dikilen fidanlar çok büyümüş." cümlesinde göre;
a) Cümle kaç sestene oluşur?
b) Cümle kaç sözcükten oluşur?
c) Cümle kaç hecedir?
ç) Cümlenin 11. hecesi hangisidir?
d) Cümlenin 6. harfi hangisidir?
e) Cümledeki hangisi sözcükte, ince ve kalın ünlüler birlikte yer alır?
f) Cümledeki sözcükler alfabetik olarak sıralandığında hangi sözcük ilk sırada yer alır?

S2. Verilen cümlelerdeki hece sayılarını yazalım.

- a) Annem, mutfakta en sevdiğim yemeği yapıyor.
b) Sütü, kedilerin önündeki tabağa döktü.

S3. Aşağıdaki verilen ifadeler doğru ise başına (D), yanlış ise başına (Y) yazalım.

- (.....) kabakulak kelimesi 9 heceden oluşur.
(.....) Papatyalar sözcüğünün tüm ünlüleri kalındır.
(.....) Ünlü harfler tek başına hece olabilir.

S4. Aşağıda verilen tabloda tamamı kalın ünlü harflerden oluşan sözcükleri boyyalım.

karga	acayip	amaç	lider
vazife	ani	doğru	barış
bülbül	kocaman	öğretmen	şehir
ses	kuvvetli	mısra	misal

S5. Aşağıdaki seslerden bir önce ve bir sonra gelenleri

h	n
---	---

S6. Aşağıda verilen sözcüklerin eş anlamlarını yazalım.

- a) adale: _____ g) haşere: _____
b) şefkat: _____ ğ) biçim: _____
c) koşul: _____ h) münakaşa: _____
ç) pay: _____ ı) ant: _____

S7. Aşağıdaki kelimelerin zıt anlamlarını yazalım.

- a) acemi: _____ d) acayip: _____
b) gece: _____ e) adam: _____
c) başlamak: _____ f) yasak: _____
ç) sen: _____ g) ilk: _____

S8. Aşağıda verilen tabloyu dolduralım.

Sözcük	ince ünlü	kalın ünlü	sessiz harfler
polisler			
tasdiknâme			

HAYAT BİLGİSİ

S1.



Yukarıdaki ders araç gereçleri ile derslerin eşleştirilmesi hangi seçenekte doğru olarak verilmiştir?

- a)

●	Müzik
■	Türkçe
◆	Hayat bilgisi

b)

●	Müzik
■	Görsel sanatlar
◆	Matematik

- c)

●	Görsel sanatlar
■	B.Eğitimi ve oyun
◆	Müzik



S2. Yukarıdaki görsellere bakarak hangi yargıya ulaşabiliriz?

- a) Fiziksel özellikleri aynıdır.
b) İlgilendikleri alanlar benzerdir.
c) Yetenekleri birbirinden farklıdır.

S3. 10 yaşındaki Haktan, aşağıdakilerden hangisini yapamaz?

- a) Araba sürebilir.
b) Çöpü atabilir.
c) Ödevlerini kendi başına yapabilir.

S4. Ders araç gereçlerinin tamamını çantasında taşıyan bir öğrenci için verilen ifadelerden hangisi doğru olur?

- a) Çantasında tüm araç gereci olduğu için çok başarılı olur.
b) Çantası çok ağır olduğu için sağlığı olumsuz etkilenir.
c) Öğretmeni ve ailesi onunla gurur duyar.

S5. Sınıf kuralları konusunda verilen ifadelerden hangisi doğrudur?

- a) Kuralları öğretmen ve öğrenciler birlikte belirler.
b) Kuralları öğretmenler belirler.
c) Kuralları okul müdürü belirler.

S6. Aşağıda verilen etkinliklerden hangisini, grup ile birlikte yapıyor olabilirim?

- a) Sınıf korosunda şarkı söylerim.
b) Dans gösterisi hazırlarım.
c) Güzel resimler yaparım.