

S1. Aşağıda verilen işlemleri yapalım.

$$\begin{array}{r} \text{○} \\ 24 \\ + 58 \\ \hline \end{array} \quad \begin{array}{r} \text{○} \\ \square 9 \\ + 5 \square \\ \hline 80 \end{array} \quad \begin{array}{r} \square \square \\ + 38 \\ \hline 70 \end{array} \quad \begin{array}{r} 25 \\ \square \square \\ + 29 \\ \hline 76 \end{array}$$

S2. Eksilen ve çıkan sayıları bulalım.

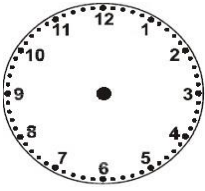
$$\begin{array}{r} \square \square \\ - 20 \\ \hline 18 \end{array} \quad \begin{array}{r} \square \square \\ - 45 \\ \hline 26 \end{array} \quad \begin{array}{r} 64 \\ - \square \square \\ \hline 28 \end{array} \quad \begin{array}{r} 73 \\ - \square \square \\ \hline 45 \end{array}$$

S3. İşaretli kutudan başlayarak verilen yönergeye uygun ilerlersek, hangi harfe ulaşırız?

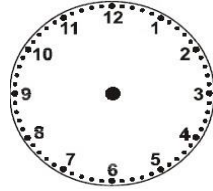
- 2 birim yukarı
- 8 birim sola
- 5 birim aşağı
- 4 birim sağa
- 2 birim aşağı
- 3 birim sola
- 4 birim yukarı

				F					
C									Ç
				A					
	H								
		E				D			
								G	
				B					

S4. Verilen saate göre akrep ve yelkovanı çizelim.



Saat 18. 15



Saat 3' e çeyrek var.

S5. Verilen sayıların, basamak değeri farkı yazalım.

- a) 58 : _____ b) 75 : _____ c) 16 : _____

S6. Aşağıda verilen işlemleri yapalım.

saat	dakika	saat	dakika
14	: 20	05	: 55
- 07	: 35	+ 03	: 05
<hr/>		<hr/>	

S7. Aşağıda verilen işlemleri yapalım.

TL	Kr	TL	Kr
65	, 50	46	, 30
- 28	, 17	+ 19	, 25
<hr/>		<hr/>	

S8. Boş bırakılan yere uygun sayı veya ifadeleri yazalım.

- 6 haftaay.....haftadır.
- Hafta içi günler..... ' dir.
- 11 gün :hafta.....gündür.

S9. Verilen eşitsizliklere göre, boş bırakılan yere uygun olan en küçük veya en büyük sayıları yazalım.

- a) 81 < _____ b) 57 < _____ c) 24 > _____ ç) 98 > _____

S11. Verilen bölme işlemlerini yapalım.

$$\begin{array}{r} 40 \overline{)10} \\ 18 \overline{)2} \\ 28 \overline{)4} \end{array} \quad \begin{array}{r} 40 \div 5 = \\ 27 \div 3 = \\ 6 \div 1 = \end{array}$$

S10. Verilen paraların miktarını yazalım.

4 TL + 35 Kr : _____ Kr 380 Kr : _____ TL _____ Kr
25 Kr + 10 Kr + 5 Kr : _____ Kr 165 Kr : _____ TL _____ Kr

S13. Verilen sayılardan 2 onluğa yuvarlananları boyayalım.

22	16	31	26	24	29	23	19
----	----	----	----	----	----	----	----

S14. Aşağıda verilen çarpma işlemlerini yapalım.

$$\begin{array}{r} 7 \times 2 = \\ 8 \times 3 = \\ 9 \times 4 = \end{array} \quad \begin{array}{r} 5 \times 5 = \\ 1 \times 0 = \\ 10 \times 6 = \end{array} \quad \begin{array}{r} 83 \\ \times 4 \\ \hline \end{array} \quad \begin{array}{r} 19 \\ \times 3 \\ \hline \end{array}$$

S15. Verilen takvime göre soruları cevaplayalım.

a) Takvim hangi mevsime aittir?

Ağustos 2021

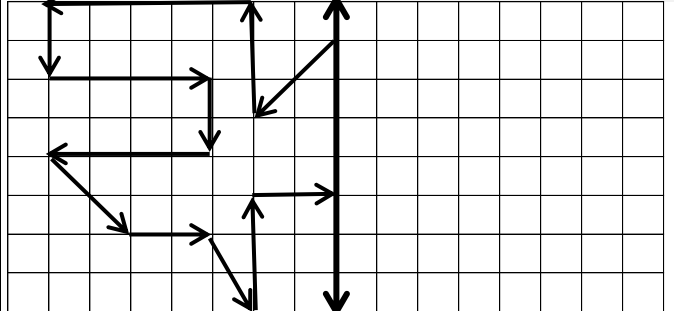
p	s	ç	pr	c	ct	pz
						1
2	3	4	5	6	7	8
9	10	11	12	13	14	15
16	17	18	19	20	21	22
23	24	25	26	27	28	29
30	31					

b) Ayın ilk günü hangisidir?

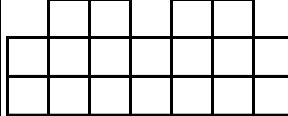
c) Ayın 5. haftasında kaçınıcı günler yer alır?

ç) 2. çarşamba günü ayın kaçınıcı gündür?

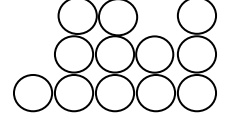
S16. Aşağıdaki şeklin simetriğini çizelim.



S17. Verilen şekillerin belirtilen kadar kısmını boyayalım.

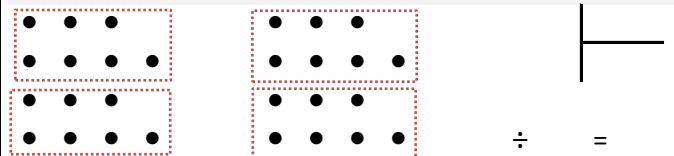


Yarım



çeyrek

S18. Şekille ifade edilen bölme işlemini yazalım.



S19. Verilen sayının çeyreği kaçtır?

$$20 \div \quad = \quad$$

S20. Ayça, Yasemin ve Erdi misketlerini birleştirdi. Toplam 82 misketleri oldu. Ayça'nın 37, Yasemin'in 29 misketi olduğuna göre, Erdi'nin kaç misketi vardır?

S21. Bir kasap her biri 2 kg olan tavuklardan 4 düzine aldı. Aldığı tavukların 36kg 'ını sattı. Kasabın satmadığı kaç kg tavuğu kalır?

S22. Öğretmen Nuri'den, 4 birlik 7 onluk sayısından, 5 onluk eksik olan sayıyı bulup, 3 'e bölmelerini istiyor. Buna göre, Nuri hangi sayıyı bulur?

TÜRKÇE

KAYBOLAN HEYBE

Hoca,köyün birinde bir geceliğine konuk olarak kalır. Sabah uyandığında heybesini yanında bulamaz. Bağırıp çağırmaya başlar :

-Çabuk bulun heybemi! Eğer bulamazsanız ben bilirim yapacağımı!

Bütün köylüleri bir telaş alır. Her biri bir yana koşturup heybeyi aramaya başlarlar. Sonunda heybe bulunur. Akşam üzerine doğru Hoca, köyden ayrılmaya karar verir. Onu yolcu etmeye gelenlerden biri merakla sorar :

-Yahu Hocam, şayet heybeni bulamasaydık ne yapacaktınız?

Hoca :

-Ne yapacaktım öyle mi? Evdeki eski kilimi bozup, yeni heybe yapacaktım ! Başka ne yapabilirim ki...

SORULAR

S1.Metne göre, Hoca'yı sinirlendiren olay nedir?

S2.Hoca, köyden ne zaman ayrılmaya karar verir?

S3. Hoca, kendisine yeni heybe yapmak için ne kullanacağını söylüyor?

S4.Verilen sözcükleri, eş anlamları ile eşleştirelim.

meçhul	1	ant
buluş	2	ayaz
soğuk	3	icat
yemin	4	bilinmeyen

S5.Tek başına anlamı olmayan sözcüklerin altını çizelim.

- a) Bazı sebeplerden dolayı tatile çıkamadık.
b) İyileştim ama tedavim bir süre daha evde devam edecek.
c) Kırarak veya ezerek fındıkları küçük parçalara ayırdık.

S6. Aşağıda verilen ifadelerden cümle olanları işaretleyelim.

- Kalırız
 Adaylıktan çekildim
 Beraber doktora

S7. "mi?" soru eki doğru yazılan cümleleri işaretleyelim.

- Yemekleri ısıtayımmı?
 Mahallede olanları duydun mu?
 İstanbul'daki maça seyirci alınacak mı?

S8. Yazım yanlışlarını düzelterek cümleyi yeniden yazalım.
antalya'lılar! Şehre gelen turistler' i güzel ağırladı ?

S9. Boş bırakılan yere uygun hâl (durum) ekini yazalım.

Yol..... oluşan çukur..... çabucak kapattılar.

S10 Verilen devrik cümleyi, kurallı cümle olarak yazalım.

Çalışmazsan derslerine olursun başarısız.

S11.Cümledeki cins (tür) isimlerinin altını çizelim.

Polis, zor durumdaki kişiyi kurtarmaya çalışıyor.

S12. " Dışarıya çıkınca iri gözleri kocaman açıldı." cümlesinde hangi sözcük bir varlığın özelliğini anlatmaktadır?

- a) çıkınca b) iri c) açıldı

S13. Hangi cümlede kesme işareti **yanlış** kullanılmış?

- a) Burcu'nun babası bugün gelecekti.
b)Barış'a giden yol sevgi ve saygıyla güzelleşir.
c) Nesrin'i hepimiz çok seviyoruz.

S14. Aşağıdaki cümlelerde altı çizili sözcük çiftlerinden hangisi,varlığın özelliğini **belirtmemektedir**?

- a) **Büyükçe bir** ev almışlar.
b) **Güzel güzel** giysileri var.
c) **Yavaş yavaş** öğreneceksin.

S15. " **Tam yerini söyleyemem.....isterseniz arar bulursunuz.** " cümlesindeki boşluğa, hangi sözcüğün yazılması uygundur?

- a) ama b) bile c) veya

S16. Hangi özel isim **yanlış** yazılmıştır?

- a) Mehmetler b) Karanlı c) Fatı' hin
HAYAT BİLGİSİ

S1.Aşağıdakilerden hangisi doğru bir davranıştır?

- a) Yoldaki araçların arasından hızlıca karşıya geçmek.
b) Yolda arabası bozulan bir kişiyle dalga geçmek.
c) Arabasını itmeye çalışan birine yardım etmek.

S2.Aşağıdakilerden hangisi güvenli bir oyun alanı **değildir**?

- a) cadde b) bahçe c) park

mikser	bıçak	pense
çekiç	buzdolabı	ütü

S3. Yukarıdaki araçlardan elektrikle çalışanlar boyandığında tablo nasıl görünür?

- a)  b)  c) 

S4. " Kaykay, bisiklet,.....ve..... gibi araçları kullanırken uygun kıyafetler giymeliyiz. " cümlesinde boş bırakılan yere aşağıdaki araçlardan hangisi **yazılamaz**?

- a) kızak b) paten c) kamyon

Ev işlerine çocuklar yardım etmemelidir.

Her evde iş bölümü yapılması gerekir.

Evde bütün işleri babalar yapmalıdır.

S5. Yukarıdaki ifadeleri doğru veya yanlış olarak değerlendirirsek, hangi seçenek doğru olur?

- a)

Y
D
D

 b)

Y
Y
D

 c)

Y
D
Y