

S1. Aşağıda verilen işlemleri yapalım.

$$\begin{array}{r} \square \\ 15 \\ + 46 \\ \hline \end{array} \quad \begin{array}{r} \square \\ 66 \\ + 26 \\ \hline \end{array} \quad \begin{array}{r} 71 \\ - 40 \\ \hline \end{array} \quad \begin{array}{r} 68 \\ - 37 \\ \hline \end{array}$$

S2. Aşağıdaki toplama işlemlerinde verilmeyen toplamları bulalım.

$$\begin{array}{r} \square \square \\ + 51 \\ \hline 79 \end{array} \quad \begin{array}{r} 27 \\ + \square \square \\ \hline 87 \end{array} \quad \begin{array}{r} \square \square \\ + 36 \\ \hline 98 \end{array} \quad \begin{array}{r} \square \square \\ + 45 \\ \hline 77 \end{array}$$

S3. Aşağıdaki sayıları karşılaştıralım. (<, >, =)

| | | | |
|----|----|----|----|
| 50 | 37 | 21 | 16 |
| 79 | 84 | 56 | 38 |

S4. Aşağıdaki toplama işlemlerinde verilmeyen sayıları bulalım.

$$\begin{array}{r} \square 7 \\ + 2 \square \\ \hline 91 \end{array} \quad \begin{array}{r} 6 \square \\ + \square 3 \\ \hline 78 \end{array} \quad \begin{array}{r} \square 4 \\ + 3 \square \\ \hline 82 \end{array} \quad \begin{array}{r} 7 \square \\ + \square 6 \\ \hline 96 \end{array}$$

S5. Onluk bozmayı gerektiren çıkarma işlemlerini cevaplayalım.

$$\begin{array}{r} \square \square \\ 73 \\ - 48 \\ \hline \end{array} \quad \begin{array}{r} \square \square \\ 50 \\ - 14 \\ \hline \end{array} \quad \begin{array}{r} \square \square \\ 81 \\ - 39 \\ \hline \end{array}$$

$$\begin{array}{r} \square \square \\ 65 \\ - 27 \\ \hline \end{array} \quad \begin{array}{r} \square \square \\ 44 \\ - 15 \\ \hline \end{array} \quad \begin{array}{r} \square \square \\ 76 \\ - 28 \\ \hline \end{array}$$

S6. Aşağıda verilen işlemlerin gerçek ve tahmini sonuçlarını bulalım. (Sayıları en yakın olduğu onluğa yuvarlayarak tahmini sonucu bulabilirsin.)

| Gerçek Toplam | Tahmini Toplam | Gerçek Fark | Tahmini Fark |
|-----------------------------------------------------|-------------------------------------------------------------------------------|-----------------------------------------------------|-------------------------------------------------------------------------------|
| $\begin{array}{r} 53 \\ + 34 \\ \hline \end{array}$ | $\begin{array}{r} \square \square \\ + \square \square \\ \hline \end{array}$ | $\begin{array}{r} 87 \\ - 26 \\ \hline \end{array}$ | $\begin{array}{r} \square \square \\ - \square \square \\ \hline \end{array}$ |

S7. Aşağıdaki sayıların, sayı değeri toplamını yazalım.

a) 42 : _____ b) 65 : _____ c) 96 : _____

S8. Aşağıdaki sıralamalarda boş bırakılan yerlere uygun sayıları yazalım.

- a) > > 81 > > > > 77
 b) < < < 12 < < <
 c) > > 42 > > > >

S9. Şeklin ortasında bulunan onluğa yuvarlanan (yakın olan) sayıları boyayalım.

| | | | | | | | |
|----|----|----|----|----|----|----|----|
| 52 | 69 | 7 | 13 | 47 | 54 | 25 | 23 |
| | 60 | | 10 | | 50 | | 30 |
| 63 | 57 | 15 | 6 | 58 | 51 | 34 | 32 |

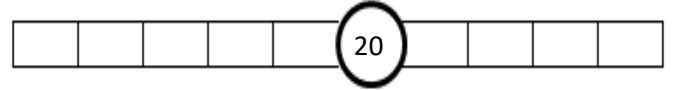
S10. Dolmuşta 23 yolcunun 5 tanesi çocuk, 12 tanesi erkek, diğerleri ise kadındır. Buna göre, dolmuşta kaç kadın yolcu vardır?

S11. Aşağıdaki tabloda verilen işlemleri yaparak, sonucu en yakın onluğa yuvarlayalım.

| işlem | sonucu | En yakın onluk |
|--------|--------|----------------|
| 43 + 8 | → | → |
| 76 - 5 | → | → |

S12. 75 sayısının 24 eksikliğinin, 37 fazlası kaçtır?

S13. Ortadaki onluğa yakın olan sayıları yazalım.



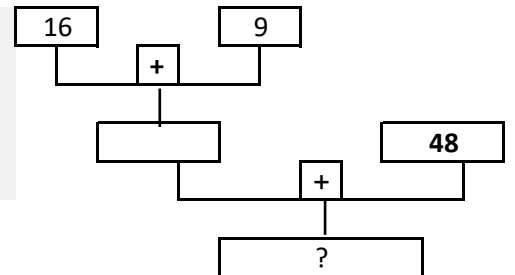
S14. Aşağıda verilen toplama işlemlerinin sonucunu ritmik sayma yaparak bulalım.

- a) 4 + 4 + 4 + 4 + 4 =
 b) 2 + 2 + 2 + 2 + 2 + 2 + 2 =
 c) 3 + 3 =
 ç) 10 + 10 + 10 + 10 + 10 =
 d) 1 + 1 + 1 + 1 + 1 + 1 + 1 =
 e) 5 + 5 + 5 + 5 + 5 + 5 =

S15. Örüntüleri verilen kurala göre devam ettirelim.

- 2' şer azalt
 a) 74 - 72 - - - - -
 3 arttır, 5 azalt
 b) 34 - 37 - 32 - - - - -

S16. Yandaki şemaya göre " ? " yerine hangi sayı yazılmalıdır?



TÜRKÇE

S1. "Salgın sebebiyle sokağa çıkmama izin verilmiyor. "

cümlesinde göre;

- a) Cümle kaç sestene oluşur?
- b) Cümle kaç sözcükten oluşur?
- c) Cümle kaç hecedir?
- ç) Cümlenin 15. hecesi hangisidir?
- d) Cümlenin 20. harfi hangisidir?
- e) Cümledeki sözcüklerin hangileri iki hecelidir?


f) Cümledeki sözcükler alfabetik olarak sıralandığında hangi sözcük son sırada yer alır?

S2. Karışık olarak verilen sözcüklerle anlamlı ve kurallı bir cümle oluşturalım.

pikniğe - ailecek - gideceğiz - yarın

havuç - bahçeden - ve - topladım - marul

S3. Yandaki sözcüklerin eş anlamlarını bulmacanın uygun kutucukları içine yazalım.



1. ray
2. hudut
3. eser
4. mesut
5. hadise

S4. Karşılaştırma anlamı taşıyan cümleleri işaretleyelim.

- Ben de annem gibi kıvrıkcık saçlıyım.
- Kimse senin kadar hızlı koşamıyor.
- İmdat! Yardım edin bana!
- Henüz okumayı öğrenemedim.

S5. Verilen sözcükleri alfabetik olarak sıralayalım.

ikramiye - tufan - pranga - büfe

1..... 2..... 3..... 4.....

S6. Parantez içlerine uygun noktalama işaretlerini koy.

- a) Köpekten korkan çocuk hemen babasına sarıldı ()
- b) Selçuk () sık sık halı sahaya gider mi ()
- c) Akdeniz() de uzun zamandır doğalgaz arıyoruz ()

S7. " Saat 12' de annem beni okuldan alacak. "

cümlesine göre, aşağıdaki soruları cevaplayalım.

- a) Kim? : c) Kimi? :
- b) Ne zaman? : ç) Nereden? :

HAYAT BİLGİSİ

- Çok güzel ip atlarım.
- Yufka yürekli biriyim.
- Esmem tenliyim.

S1. Fiziksel özelliklerimizden bahsedilen kutucuk boyanırsa hangi seçenek doğru olur?

- a)
- b)
- c)

S2. Verilen ifadelerden yanlış olan hangisidir?

- a) Oyunun kurallarına uyamayabiliriz.
- b) Arkadaşlarımıza nazik davranmalıyız.
- c) Kuralları birlikte belirlemeliyiz.

S3.

| | | | |
|---------|---|---|-------|
| oyuncak | 1 | 2 | paten |
| mont | 3 | 4 | ev |

Yukarıda verilenlerden hangileri temel ihtiyacı-mız olarak ifade edilir?

- a) 1 - 4 b) 3 - 4 c) 1 - 4 - 2

S4. " Damlaya damlaya göl olur. " atasözünün konu-su aşağıdakilerden hangisidir?

- a) ihtiyaç b) istek c) Tasarruf

S5. Verilen ifadelerden hangisi yanlıştır?

- a) Düzenli çalışmak çok yorulmamıza sebep olur.
- b) Ödevlerimizi zamanında yapmalıyız.
- c) Çantamızı ders programımıza göre hazırlamamız gerekir.

S6. Aşağıdakilerden hangisi iyi bir dinleyiciyi anlatır?

- a) Sabri, arkadaşı konuşurken arkasını döner.
- b) Can, öğretmeni ders anlatırken dışarıyı seyrediyor.
- c) Emre, söyleyeceklerini konuşan kişiden söz alıp söyler.

S7. Grup çalışması için verilen ifadelerden hangisi yanlıştır?

- a) Öz güvenimizi azaltır.
- b) Sorumluluk duygumuzu geliştirir.
- c) İş birliğinin önemini kavratır.