

S1. Aşağıda verilen işlemleri yapalım.

$$\begin{array}{r} \square \\ 2 \ 9 \\ + 1 \ 3 \\ \hline \end{array} \quad \begin{array}{r} \square \\ 5 \ 5 \\ + 3 \ 7 \\ \hline \end{array} \quad \begin{array}{r} 8 \ 4 \\ - 6 \ 2 \\ \hline \end{array} \quad \begin{array}{r} 9 \ 6 \\ - 3 \ 5 \\ \hline \end{array}$$

S2. Aşağıdaki toplama işlemlerinde verilmeyen sayıları bulalım.

$$\begin{array}{r} \square \\ + 7 \\ \hline 1 \ 0 \end{array} \quad \begin{array}{r} 6 \\ + \square \\ \hline 1 \ 1 \end{array} \quad \begin{array}{r} 8 \\ + \square \\ \hline 1 \ 4 \end{array} \quad \begin{array}{r} 5 + \square = 9 \\ \square + 4 = 7 \end{array}$$

S3. Aşağıdaki sayıları karşılaştıralım. (<, >, =)

41	41	25	32
93	84	43	60

S4. Aşağıdaki sayıların, sayı değeri farkını yazalım.

a) 43 : _____ b) 97 : _____ c) 55 : _____

S5. Verilen sayıların, basamak değeri toplamını yazalım.

a) 36 : _____ b) 92 : _____ c) 74 : _____

S6. Verilen örüntüleri belirtilen kurala göre devam ettirelim.

3' er arttır

a) 12 - 15 - - - - -

5' er azalt

b) 65 - 60 - - - - -

2 azalt, 3 arttır

c) 16 - 14 - 17 - - - - -

S7. Aşağıda verilen işlemlerin gerçek ve tahmini sonuçlarını bulalım. (Sayıları en yakın olduğu onluğa yuvarlayarak tahmini sonucu bulabilirsiniz.)

Gerçek Toplam	Tahmini Toplam	Gerçek Fark	Tahmini Fark
$\begin{array}{r} \square \\ 4 \ 4 \\ + 2 \ 7 \\ \hline \end{array}$	$\begin{array}{r} \square \\ 1 \ 5 \\ + \quad \quad \\ \hline \end{array}$	$\begin{array}{r} 3 \ 6 \\ - 1 \ 5 \\ \hline \end{array}$	$\begin{array}{r} \square \\ 3 \ 6 \\ - 1 \ 5 \\ \hline \end{array}$

S8. Aşağıda verilen toplama işlemlerinin sonucunu ritmik sayma yaparak bulalım.

$\begin{array}{r} \square \\ 4 \ 3 \\ + \quad \quad \\ \hline \end{array}$	$\begin{array}{r} \square \\ 1 \ 5 \\ + \quad \quad \\ \hline \end{array}$	$\begin{array}{r} 3 \ 2 \\ 3 \ 2 \\ 3 \ 2 \\ + 1 \ 0 \\ \hline \end{array}$	$\begin{array}{r} 1 \ 0 \\ 1 \ 0 \\ 1 \ 0 \\ + 1 \ 0 \\ \hline \end{array}$
$\begin{array}{r} \square \\ 4 \ 3 \\ + 3 \\ \hline \end{array}$	$\begin{array}{r} \square \\ 1 \ 5 \\ + 1 \ 5 \\ \hline \end{array}$	$\begin{array}{r} 3 \ 2 \\ + 2 \\ \hline \end{array}$	

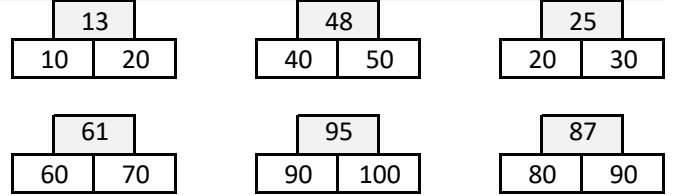
S9. Aşağıdaki sıralamalarda boş bırakılan yerlere uygun sayıları yazalım.

a) 12 > > > > > > 6
b) 58 < < < < < < 64

S10. Üstteki sayının en yakın olduğu onluğa boya.

Birler basamağı 5' ten küçükse kendi onluğunda kal,

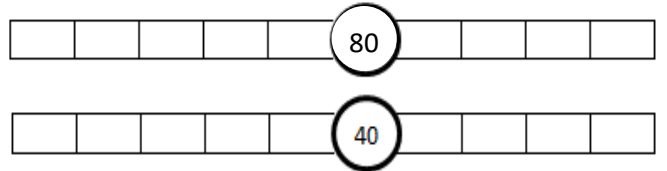
5 veya 5'ten büyükse bir sonraki onluğa git....



S11. 36' dan başlayarak geriye dörder ritmik sayarken söylediğimiz 6. sayı kaçtır?

1. _____ 2. _____ 3. _____ 4. _____ 5. _____ 6. _____

S11. Ortada verilen onluğa yakın olan sayıları yazalım.



S12. Aklımda tuttuğum sayı bir düzineden 7 fazladır. Acaba aklımdaki sayı kaçtır?

S13. " 80 " e yuvarlanan en büyük sayının, basamak değeri farkı kaçtır?

S14. Ağabeyimle benim yaşlarımızın toplamı 19' dur. Ağabeyim 12 yaşında olduğuna göre, benim yaşım kaçtır?



S15. Verilen sayılardan " 40 " en yakın olan sayının 14 eksiği kaçtır?

TÜRKÇE

S1. "Her hafta en az bir kitap okurum."

cümlesinde göre;

- a) Cümle kaç sestene oluşur?
- b) Cümle kaç sözcükten oluşur ?
- c) Cümle kaç hecedir?
- ç) Cümlelerin 2. hecesi hangisidir?
- d) Cümlelerin 9. harfi hangisidir?
- e) Cümledeki hangisi sözcükte ince ve kalın ünlüler birlikte yer alır?
- f) Cümledeki sözcükler alfabetik olarak sıralandığında hangi sözcük ilk sırada yer alır?

S2. Devrik olarak verilen cümleyi, kurallı ve anlamlı olarak yeniden yazalım.

Sık sık anlatır dedem askerlik anılarını.

S3. Verilen olumlu cümleyi, olumsuz olarak yazalım.

Annemle birlikte ceviz topladık.

S4. Aşağıda karışık olarak verilen tabloyu dolduralım.

sözcük	İnce Ünlü harf	kalın Ünlü harf	Ünsüz harfler
biliyorsun			
pandispanya			

S5. Aşağıda verilen cümlelerde tek başına anlamı olmayan sözcükleri çember içine alalım.

- a) Topu sen mi patlattın?
b) Buraya kadar tek başımıza geldik.
c) Evde kuş ya da balık beslememe izin var.

S6. Aşağıdaki kelimelerin eş anlamlarını yazalım.

- a) dargın: _____ d) kıl : _____
b) şeffaf : _____ e) zindan: _____
c) dönemeç: _____ f) roket: _____
ç) kayık: _____ g) açacak: _____

S7. Cümledeki yazım yanlışlarını düzelterek yeniden yazalım.

atatürk 19 mayısta samsuna çıktı?

S8. " Dün defterimi okulda unutmuşum. "

cümlesine göre, aşağıdaki soruları cevaplayalım.

- a) Kim? : _____ c) Nerede? : _____
b) Ne? : _____ ç) Ne zaman? : _____

HAYAT BİLGİSİ

S1. Hatice iyi göremediği için gözlük kullanıyor.

Yukarıda verilen bilgiye göre hangisi söylenemez?

- a) Hatice gözlük kullandığı için bizimle oynayamaz.
b) Oyun oynarken arkadaşımızın gözlüğüne dikkat etmeliyiz.
c) Arkadaşlarımızın farklılıklarına saygı duymalıyız.

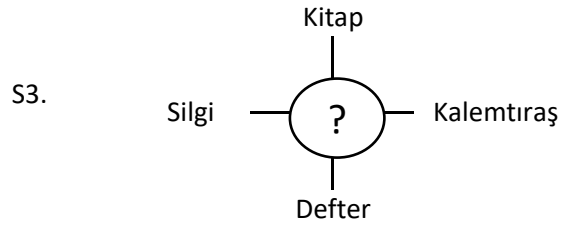
S2. 1. Ne istediği ?

2. Ne düşündüğü ?

3. Ne hissettiği?

Yukarıdakilerden hangileri konuşan bir kişiyi dinlerken anlamaya çalıştığımız şeylerdir?

- a) 1 ve 2 b) 2 ve 3 c) 1- 2 ve 3



Yukarıda verilen sözcüklerden yola çıkarak " ? " yerine hangi sözcüğün yazılması gerekir?

- a) Ders programı b) Ders araçları c) Ders notları

S4. " **Grup çalışmalarında** yapılır. " cümlesinde boş bırakılan yere hangisi getirilir?

- a) görev dağılımı b) cesaret c) özgüven

- S5. ► Tuvaletten çıkınca muslukları akmayacak şekilde kapatmalıyız.
► Koridorlarda ve sınıfta boşa yanan lambaları kapatmalıyız.
► Soğuk kış günlerinde pencereleri uzun süre açık bırakmamalıyız.

Yukarıdaki ifadelerde hangi kaynağın tasarrufundan söz edilmez?

- a) Para b) Su c) Elektrik

S6. Grup çalışması ile ilgili verilenlerden hangisi yanlış bir ifadedir?

- a) Sorumluluk duygumuzu geliştirir.
b) Planlı ve düzenli çalışmaktan kurtuluruz.
c) Yeni bilgiler ediniriz.