

S1. Aşağıda verilen işlemleri yapalım.

$$\begin{array}{r} \text{○} \\ 5 \ 4 \\ + 2 \ 8 \\ \hline \end{array}$$

$$\begin{array}{r} \square \ 1 \\ + 5 \ \square \\ \hline 8 \ 1 \end{array}$$

$$\begin{array}{r} 4 \ 7 \\ + \square \ \square \\ \hline 6 \ 3 \end{array}$$

$$\begin{array}{r} 3 \ 6 \\ 2 \ 7 \\ + \square \ \square \\ \hline 8 \ 2 \end{array}$$

S2. Aşağıdaki sayıları karşılaştıralım. (< , > , =)

| | | | |
|----|----|----|----|
| 26 | 35 | 48 | 27 |
| 19 | 33 | 58 | 58 |

S3. Eksilen ve çıkan sayıları bulalım.

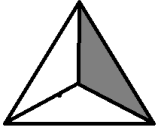
$$\begin{array}{r} \square \ \square \\ - 3 \ 5 \\ \hline 5 \ 6 \end{array}$$

$$\begin{array}{r} \square \ \square \\ - 3 \ 9 \\ \hline 4 \ 4 \end{array}$$

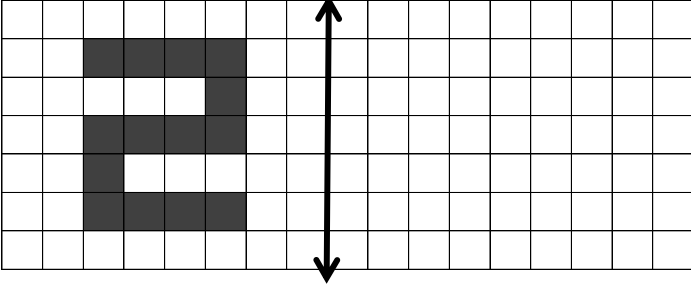
$$\begin{array}{r} 7 \ 2 \\ - \square \ \square \\ \hline 1 \ 4 \end{array}$$

$$\begin{array}{r} 9 \ 0 \\ - \square \ \square \\ \hline 6 \ 3 \end{array}$$

S4. Verilen şekil saat yönünde yarım tur döndürülürse yeni görünümü nasıl olur?



S5. Verilen şeklin simetriğini çizelim.



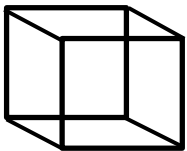
S6. Verilen şekil örüntüsünü devam ettirelim.



S7. Verilen sayıların, sayı değeri toplamını yazalım.

a) 88 : _____ b) 92 : _____ c) 36 : _____

S9. Açılımı verilen geometrik şeklin, özelliklerini yazalım.



Şeklin adı : _____
 yüzey sayısı : _____
 ayrıt (kenar) sayısı : _____
 köşe sayısı : _____

S10. Yanda verilen sayıya göre, aşağıdaki soruları cevaplayalım.

64

- a) sayının okunuşunu yazalım:
- b) Birler basamağındaki rakam :
- c) Onlar basamağındaki rakam:
- ç) Birler basamağının basamak değeri:
- d) Onlar basamağının basamak değeri :

S11. Verilen eşitlikleri sağlayan uygun sayıları yazalım.

a) $45 + 36 = 22 + \square$ b) $\square - 39 = 90 - 65$

S12. Şeklin ortasında bulunan onluğa yuvarlanan (yakın olan) sayıları boyyalım.

| | | | | | | | | | | | |
|----|----|----|----|----|----|----|----|----|----|----|----|
| 12 | 15 | 7 | 29 | 26 | 23 | 93 | 92 | 88 | 55 | 65 | 66 |
| 16 | 10 | 13 | 35 | 30 | 31 | 89 | 90 | 94 | 53 | 60 | 57 |
| 18 | 11 | 9 | 32 | 37 | 34 | 84 | 86 | 91 | 51 | 54 | 62 |

S13. Aşağıda verilen sayıları büyükten küçüğe doğru (> , <) işaretlerini kullanarak sıralayalım.

58 - 19 - 45 - 38 - 24

S14. Örüntüyü verilen kurala göre devam ettirelim.

3 azalt , 5 azalt

61 - - - - - - -

S15. Aşağıda 100' lük tablonun bazı bölümleri verilmiştir. Buna göre, tabloda eksik olan sayıları yazalım.

| | | | | | |
|--|--|--|----|--|--|
| | | | | | |
| | | | | | |
| | | | 66 | | |
| | | | | | |
| | | | | | |
| | | | | | |
| | | | | | |
| | | | | | |
| | | | | | |
| | | | | | |

S16. 46 sayısının 18 eksiğinin 35 fazlası kaçtır?

S17. Selin, hikâye kitabının 1. gün 23 sayfasını, 2. gün 15 sayfasını okuyarak bitirdi. Selin'in okuduğu hikâye kitabı kaç sayfadır?

S18. Annesi, Sultan'dan 23 yaş büyüktür. Sultan 8 yaşında olduğuna göre, ikisinin yaşları toplamı kaçtır?

S19. İki basamaklı en küçük sayının 37 fazlası kaçtır?

S20. Hangi sayının 24 fazlası 79'dur?

S21. Ağabeyim 3 yıl önce 12 yaşındaydı. 8 yıl sonra kaç yaşında olur?

S22. 2 onluk + 7 birlik ve 3 onluk + 8 birlik sayılarının toplamı kaçtır?

TÜRKÇE

- S1. " El, elin eşeğini türkü çağırarak arar. " atasözüne göre;
- a) Cümle kaç sestem oluşur?
- b) Cümle kaç sözcükten oluşur ?
- c) Cümle kaç hecedir?
- ç) Cümlenin 14. hecesi hangisidir?
- d) Cümlenin 8. harfi hangisidir?
- e) Alfabetik sırada en sonda hangi sözcük yer alır?
- f) Cümlede varlığın özelliğini belirten sözcükler hangileridir?

S2.Aşağıda numaralandırılan sözcüklerin eş anlamlarını karşıdaki sözcüklerle eşleştirelim.

| | | |
|----------|---|----------|
| sınıf | 1 | savaş |
| hüzün | 2 | derya |
| merkep | 3 | derslik |
| besin | 4 | tür |
| muhabere | 5 | eşek |
| kıvanç | 6 | mutluluk |
| çeşit | 7 | keder |
| deniz | 8 | gıda |

S3.Sözcüklerle anlamlı ve kurallı bir cümle yazalım.
ister - meyve - misin - içmek - suyu

S4.Karşılaştırma anlamı taşıyan cümleleri işaretleyelim.

- Yeni hikâye kitabım eskisinden daha eğlenceli.
- Bu kedi kadar şirin olanını görmedim.
- Teyzem de annem gibi uzun boyludur.
- Büyüdüğümde doktor olmak istiyorum.

S5.Parantez içlerine uygun noktalama işaretlerini koy.

- a) Furkan () ın babası öğretmendir ()
- b) Cuma () cumartesi () pazar günleri İstanbul () da olma() yacağım ()
- c) Yaşasın () Okullar tekrar açılıyormuş ()
- ç) Ayşe bizimle gelir mi bilmem ()
- d) Bu sabah 07 () 00 () da uyandım ()

S6. Verilen sözcükleri alfabetik olarak sıralayalım.

karne - şerbet - garson - hayat

1.
2.
3.
4.

S7. Yazım yanlışlarını düzelterek cümleyi yeniden yazalım.

yaztatili' nde çeşmeye gitmeyi pilanıyoruz!

S8. Aşağıdaki tabloda belirtilen harfleri yazınız.

| | |
|----------------------------|--|
| ç ile ğ arasındaki harfler | |
|----------------------------|--|

S9.Cümledeki özel ismin altını çizelim.

Fıstık ' ın kafesini hep ben temizlerim.

S10. Verilen cümlelerde , varlıkların özelliklerini belirten sıfatların (ön ad) altını çizelim. (Nasıl?, Hangi?, Kaç?)

- a) İki yıl önce burada büyük bir sel olmuştu.
- b) Şu kitaplarını masamdan kaldırırsın mı ?
- c) Cümleye büyük harf ile başlamak gerekir.

S11.Aşağıda verilen tabloyu dolduralım.

| sözcük | eş anlamlısı | zıt anlamlısı |
|---------|--------------|---------------|
| yaramaz | | |
| gizli | | |

S12. Verilen cümlelerde "-de " eki doğru yazılmışsa başına "D", yanlış yazılmışsa "Y" harfi yazalım.

- Beyaz çamaşırları yıkadım.
- Gamzede yarışı tamamlayabildi.
- Bana da su verir misin?
- Evinde hem kedi hem de köpek besliyormuş.

S13. "Sebze yemeklerini çok severim."

cümlesine göre, aşağıdaki soruları cevaplayalım.

- a) Kim? :
- b) Ne kadar? :
- c) Neyi? :

HAYAT BİLGİSİ

S1.Verilen ifadelerden hangisi doğrudur?

- a) Hastalandığımızda toplum sağlığı merkezlerine ya da hastanelere gideriz.
- b) Diş hastalıklarını tedavi etmek hemşirelerin görevidir.
- c) Hastalandığımızda istediğimiz ilacı eczaneden alarak tedavi olabiliriz.

Çorba, taze fasulye, sütlaç

Hamburger, ayran, pilav

Limonata, pizza, tatlı

S2.Dengeli beslenen bir kişi öğle yemeğinde aşağıdakilerden hangisini tüketir?

- a) b) c)

S3. Aşağıdakilerden hangisi yemekteki doğru davranışlar arasında sayılabilir?

- a) Ağızımıza küçük lokma almak.
- b) Ağızımızı şapırdatmak.
- c) Ağızımızda lokma varken konuşmak.

S4.Aşağıdakilerden hangisinin ifadesi yanlıştır?

- a) Burjan: Babamın erkek kardeşine amca denir.
- b) Beyza : Babamın kız kardeşine teyze derim.
- c) Buse : Annemin erkek kardeşine dayı derim.

S5. Aşağıdakilerden hangisi bir ihtiyaçtır?

- a) Televizyonda çizgi film izlemek.
- b) Yazın tatilde denizde yüzmek.
- c) Günde sekiz saat uyumak.