

S1. Aşağıda verilen işlemleri yapalım.

$$\begin{array}{r} \text{○} \\ 6 \ 8 \\ + 2 \ 9 \\ \hline \end{array} \quad \begin{array}{r} \text{○} \\ 1 \ \square \\ + \square \ 6 \\ \hline 5 \ 3 \end{array} \quad \begin{array}{r} \square \ \square \\ + 5 \ 6 \\ \hline 8 \ 4 \end{array} \quad \begin{array}{r} \square \ \square \\ 1 \ 6 \\ + 4 \ 9 \\ \hline 7 \ 0 \end{array}$$

S2. Aşağıdaki sayıları karşılaştıralım. (<, >, =)

63 17 42 42 74 85 93 96

S3. Eksilen ve çıkan sayıları bulalım.

$$\begin{array}{r} \square \ \square \\ - 2 \ 8 \\ \hline 4 \ 4 \end{array} \quad \begin{array}{r} \square \ \square \\ - 3 \ 6 \\ \hline 4 \ 5 \end{array} \quad \begin{array}{r} 8 \ 6 \\ - \square \ \square \\ \hline 5 \ 9 \end{array} \quad \begin{array}{r} 4 \ 5 \\ - \square \ \square \\ \hline 1 \ 5 \end{array}$$

S4. Verilen şekli saat yönünde yarım tur döndürürsek şekil nasıl görünür? Çizerek gösterelim.



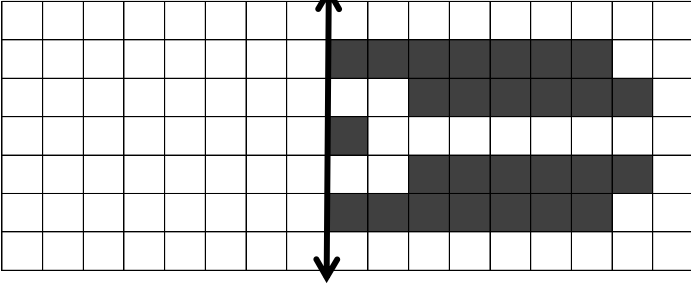
S5. Verilen çarpma işlemi toplama şeklinde yazalım.

2 x 9 =

S6. Aşağıda verilen işlemlerin gerçek ve tahmini sonuçlarını bulalım. (**Sayıları en yakın olduğu onluğa yuvarlayarak tahmini sonucu bulabilirsiniz.**)

Gerçek Toplam	Tahmini Toplam	Gerçek Fark	Tahmini Fark
$\begin{array}{r} 2 \ 9 \\ + 4 \ 6 \\ \hline \end{array}$	$\begin{array}{r} \square \ \square \\ + \square \ \square \\ \hline \end{array}$	$\begin{array}{r} 8 \ 3 \\ - 6 \ 5 \\ \hline \end{array}$	$\begin{array}{r} \square \ \square \\ - \square \ \square \\ \hline \end{array}$

S7. Verilen şeklin simetriğini çizelim.



S8. Verilen şekil örüntüsünü devam ettirelim.



S9. Verilen sayıların, basamak değeri farkını yazalım.

a) 27 : _____ b) 49 : _____ c) 86 : _____

S10. Verilen eşitsizliklere göre, boş bırakılan yere uygun olan en büyük veya en küçük sayıyı yazalım.

a) 88 > _____ b) 23 < _____ c) 16 > _____ ç) 41 < _____

S11. Verilen toplama işlemini çarpma şeklinde yaz.

3 + 3 + 3 + 3 + 3 + 3 + 3 + 3 + 3 = tane = x

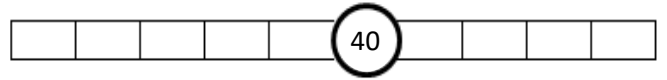
S12. Verilen bölme işlemini çıkarma işlemi ile gösterelim.

$$\begin{array}{r} 16 \\ \overline{) 2} \end{array}$$

S13. Verilen eşitlikleri sağlayan uygun sayıları yazalım.

a) 16 + 27 = 72 - b) + 38 = 26 + 45

S14. Ortada verilen onluğa yakın olan sayıları yazalım.



S15. Örüntüyü verilen kurala göre devam ettirelim.

10 arttır 4 azalt

62 - - - - - - -

S16. Aşağıda verilen çarpma işlemlerini yapalım.

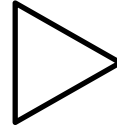
5 x 5 =	0 x 9 =	$\begin{array}{r} 3 \ 0 \\ \times 9 \\ \hline \end{array}$	$\begin{array}{r} 4 \ 1 \\ \times 6 \\ \hline \end{array}$
3 x 8 =	4 x 7 =		
6 x 2 =	3 x 5 =		

S17. Şekille verilen toplama işlemlerini çarpma şeklinde yazalım.

● + ● + ● + ● + ● + ● + ●

_____ tane _____ = _____ x _____

S18. Verilen geometrik şeklin, özelliklerini yazalım.

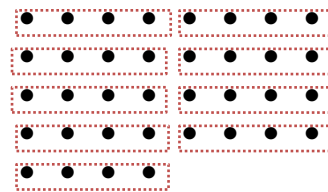


Şeklin adı : _____
yüzey sayısı : _____
ayrıt (kenar) sayısı : _____
köşe sayısı : _____

S19. Aşağıdaki bölme işlemlerini yapalım.

$\begin{array}{r} 2 \\ \overline{) 2} \end{array}$	$\begin{array}{r} 24 \\ \overline{) 4} \end{array}$	9 ÷ 3 = _____
		40 ÷ 5 = _____

S20. Şekille ifade edilen bölme işlemini yazalım.



_____ ÷ _____

S21. Tanesi 4 TL olan çoraplardan 9 tane alan Bâki, satıcıya 50 TL veriyor. Buna göre, Bâki kaç TL para üstü alır?

S22. Bir otobüste 17 kadın, 22 tane de erkek yolcu vardır. Otobüs 50 kişilik olduğuna göre, kaç koltuk boş kalmıştır?

S23. Aklımda tuttuğum sayının yarısı 18 ' dir. Buna göre, bu sayının 4 onluk fazlası kaçtır?

S24. 7 tanesi 28 TL olan kalemlerden, 2 düzine alan Ela, satıcıya kaç TL öder?

TÜRKÇE

S1. " Abanın kadri yağmurda bilinir. " atasözüne göre;

- a) Cümle kaç sestten oluşur?
- b) Cümle kaç sözcükten oluşur ?
- c) Cümle kaç hecedir?
- ç) Cümlenin 2. hecesi hangisidir?
- d) Cümlenin 6. harfi hangisidir?
- e) Cümledeki sözcükler alfabetik olarak sıralanırsa en sonda hangisi yer alır?

S2.Yazılışı yanlış olan sözcüklerin doğrusunu yazalım.

- a) karacıyer ç) yada
- b) bir çok d) herşey
- c) çeğrek e) vitez

S3.Aşağıda numaralandırılan sözcüklerin zıt anlamlarını karşıdaki sözcüklerle eşleştirelim.

ağır	1	tavan
yaşam	2	hafif
kazanan	3	ilkel
taban	4	kaybeden
asker	5	sivil
modern	6	ölüm

S4. Verilen harflerden bir sonra geleni yazarak şifreyi çöz.

Ğ n p n y o k u p , f o y u c o ö k u j ş d j z k h p .

S5.Parantez içlerine uygun noktalama işaretlerini koy.

- a) Buraları avucumun içi gibi biliyorum ()
- b) Seda'nın ayakkabıları yeni mi ()
- c) Çık çabuk () Gözüm seni görmesin ()
- ç) Annem, ağabeyime ne zaman bir görev verse bir baha ()
ne bulup geçiştiriyordu ()

S6. " Geçen hafta doğum günümü kutladık. "

cümlesine göre, aşağıdaki soruları cevaplayalım.

- a) Kim? : _____ c) Ne zaman? : _____
- b) Neyi? : _____

S7. Verilen sözcükleri alfabetik olarak sıralayalım.

raptiye - vicdan - ödlele - soğun

1. _____ 2. _____ 3. _____ 4. _____

S8. Yazım yanlışlarını düzelterek cümleyi yeniden yazalım.

S9. Verilen olumlu cümleyi, olumsuz olarak yazalım.

Kadıncağızın ne zor şartlarda çalıştığını gördüm.

S10.Cümledeki çoğul ismin altını çizelim.

Tarihi geçen ürünleri raflardan toplamalılar.

S11. Verilen cümlelerde , varlıkların özelliklerini belirten sıfatların (ön ad) altını çizelim. (Nasıl?, Hangi?, Kaç?)

- a) Zavallı çocuk, ne kadar da çaresiz görünüyor.
- b) Kırmızı kalemle önemli yerlerin altını çizelim.

S12. Aşağıda verilen cümlelerde eylem olan sözcüklerin altını çizerek gösterelim.

- a) Öğrenciler bahçeye dikeyor çam fidanı.
- b) Herkesin ipliğini pazara çıkarmaya çalışıyorum.

S13. " de " eki yanlış yazılmış olan cümleleri işaretleyelim.

- a) Kaza da yaranan kişilere yardım ettik.
- b) Birçok üründe indirim yapılacaktı.
- c) Yüzün deki çiller için doktor krem sürmesini önerdi.

S14.Verilen cümlelerde boş bırakılan yerlere " Ben, Sen, O, Biz, Siz, Onlar " isimlerinden uygun olanı yazalım.

- a), bu kadar bekleyemeyiz.
- b), bir yerden gözüm ısırıyor.
- c)....., yeni oyuncakların mı?
- ç), buraları biliyor musunuz?
- d), telefonu alman iyi olmaz.
- e), büyüyünce polis olacağım.

HAYAT BİLGİSİ

S1. Aşağıdakilerden hangisi güvenli oyun alanıdır?

- a) Park b) İnşaat c) Cadde

S2. Bisiklete binen bir kişi aşağıdakilerden hangisini takmak zorundadır?

- a) Kemer b) Kask c) Kulaklık

S3. " Bir gün komşularımızla pikniğe gitmiştik. Top oynarken komşumuzun oğlu birden fenalaştı. Babam, hemen'yi aradı. "

Yukarıdaki parçada boş bırakılan yere aşağıdakilerden hangisi yazılmalıdır?

- a) 155 b) 183 c) 112

S4. Verilen ifadelerden doğru olanı hangisidir?

- a) Yolculuk sırasında sadece büyükler emniyet kemeri takmalıdır.
- b) Çocuklar arka koltuğa oturmalıdır.
- c) Trafik kurallarına her zaman uymasak da olur.

S5. Aşağıdaki davranışlardan hangisi doğru değildir?

- a) Çöpleri yere atmak.
- b) Çevreyi temiz tutmak.
- c) Çevreyi kirletenleri kibarca uyarmak.