

S1. Aşağıda verilen işlemleri yapalım.

$$\begin{array}{r} \text{○} \\ 6 \ 4 \\ + 1 \ 7 \\ \hline \end{array} \quad \begin{array}{r} \text{○} \\ \square \ 4 \\ + 4 \ \square \\ \hline 6 \ 2 \end{array} \quad \begin{array}{r} 3 \ 3 \\ + \square \ \square \\ \hline 7 \ 2 \end{array} \quad \begin{array}{r} 1 \ 5 \\ 2 \ 8 \\ + \square \ \square \\ \hline 5 \ 2 \end{array}$$

S2. Aşağıdaki sayıları karşılaştıralım. (<, >, =)

$\square 43$  .....  $\square 43$      $\square 19$  .....  $\square 25$      $\square 36$  .....  $\square 17$      $\square 72$  .....  $\square 95$

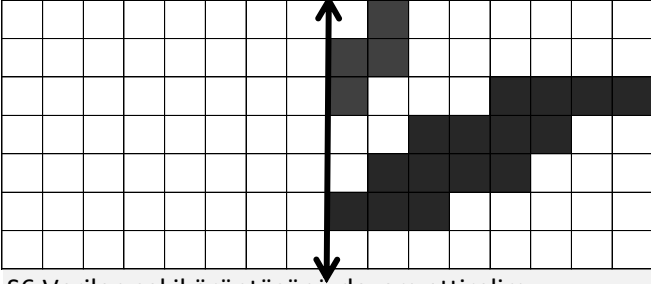
S3. Eksilen ve çıkan sayıları bulalım.

$$\begin{array}{r} \square \ \square \\ - 2 \ 8 \\ \hline 1 \ 7 \end{array} \quad \begin{array}{r} \square \ \square \\ - 4 \ 3 \\ \hline 4 \ 8 \end{array} \quad \begin{array}{r} 5 \ 3 \\ - \square \ \square \\ \hline 2 \ 6 \end{array} \quad \begin{array}{r} 6 \ 5 \\ - \square \ \square \\ \hline 3 \ 7 \end{array}$$

S4. Verilen şekil saat yönünün tersine çeyrek tur döndürülürse yeni görünümü nasıl olur?



S5. Verilen şeklin simetriğini çizelim.



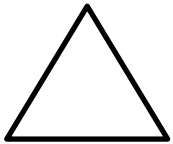
S6. Verilen şekil örüntüsünü devam ettirelim.



S7. Verilen sayıların, sayı değeri toplamını yazalım.

a) 59 : \_\_\_\_\_    b) 33 : \_\_\_\_\_    c) 72 : \_\_\_\_\_

S8. Verilen geometrik şeklin, özelliklerini yazalım.



Şeklin adı : \_\_\_\_\_  
yüzey sayısı: \_\_\_\_\_  
ayrıt ( kenar ) sayısı : \_\_\_\_\_  
köşe sayısı : \_\_\_\_\_

S9. Aşağıda verilen sayıları büyükten küçüğe doğru (>, <) işaretlerini kullanarak sıralayalım.

83 - 54 - 49 - 94 - 66

S10.  $21 \div 3$  işlemini ardışık çıkarma işlemi ile gösterelim.

S11. Verilen bölme işlemlerini yapalım.

$$\begin{array}{r} 18 \ | \ 3 \\ \hline \end{array} \quad \begin{array}{r} 20 \ | \ 5 \\ \hline \end{array} \quad \begin{array}{r} 16 \div 4 = \_\_\_\_\_\_ \\ 14 \div 2 = \_\_\_\_\_\_ \end{array}$$

S12. Verilen eşitlikleri sağlayan uygun sayıları yazalım.

a)  $26 + 26 = 70 - \square$     b)  $\square - 34 = 18 + 44$

S13. Verilen sayıların yuvarlandığı onlukları yazalım.

$\square 65$      $\square 42$      $\square 53$      $\square 38$

S14. Aşağıda verilen çarpma işlemlerini yapalım.

$$\begin{array}{r} 6 \times 3 = \_\_\_\_\_\_ \\ 7 \times 1 = \_\_\_\_\_\_ \\ 9 \times 4 = \_\_\_\_\_\_ \end{array} \quad \begin{array}{r} 2 \times 0 = \_\_\_\_\_\_ \\ 8 \times 3 = \_\_\_\_\_\_ \\ 5 \times 4 = \_\_\_\_\_\_ \end{array} \quad \begin{array}{r} 3 \ 8 \\ \times \ 4 \\ \hline \end{array} \quad \begin{array}{r} 2 \ 7 \\ \times \ 5 \\ \hline \end{array}$$


S15. Verilen çarpma işlemini toplama şeklinde yazalım.

$3 \times 5 = \_\_\_\_\_\_$

S16. Verilen toplama işlemini çarpma şeklinde yazalım.

$3 + 3 = \_\_\_\_\_\_ \text{ tane} = \_\_\_\_\_\_ \times \_\_\_\_\_\_$

S17. Şekille verilen toplama işlemini çarpma şeklinde yaz.



$\_\_\_\_\_\_ \text{ tane} \_\_\_\_\_\_ = \_\_\_\_\_\_ \times \_\_\_\_\_\_$

S18. Örüntüyü verilen kurala göre devam ettirelim.

2 azalt , 10 arttır

26 - ..... - ..... - ..... - ..... - ..... - ..... - .....

S19. Şekille ifade edilen bölme işlemini yazalım.



$\_\_\_\_\_\_ \div \_\_\_\_\_\_ = \_\_\_\_\_\_$

S20. 12' nin çeyreği ile 16' nın yarısı çarpılırsa, çarpım kaç olur?

S21. Üç kardeşten Aydın 3, Saliha 6, Turgut 9 yaşındadır. 7 yıl sonra üç kardeşin yaşları toplamı kaç olur?

S22. 2 katı 12 olan sayının 5 katı kaçtır?

S23. Bir kova, 8 sürahi su ile dolmaktadır. Buna göre, 4 kovayı doldurmak için kaç sürahi su gerekir?

S24. 
$$\begin{array}{r} 7 \ 8 \\ - \star \ \triangle \\ \hline 2 \ 6 \end{array} \quad \text{İşlemine göre} \quad \star \times \triangle = ?$$

## TÜRKÇE

S1. "Acıkmış kudurmuştan beterdir. " atasözüne göre;

- a) Cümle kaç sestem oluşur? .....
- b) Cümle kaç sözcükten oluşur ? .....
- c) Cümle kaç hecedir? .....
- ç) Cümlenin 7. hecesi hangisidir? .....
- d) Cümlenin 15. harfi hangisidir? .....
- e) Alfabetik sırada en başta hangi sözcük yer alır? .....

S2.Sözcükleri eş anlamları ile eşleştirelim.

cenk	1	mutluluk
anı	2	cümle
hasım	3	hatıra
kabahat	4	suç
kıvanç	5	düşman
tümce	6	savaş

S3. Boş bırakılan yerlere **ismin yerini tutan " Ben, Sen, O Biz , Siz , Onlar "** sözcüklerinden uygun olanını yazalım.

- a) \_\_\_\_\_ , benim arkadaşlarım olamaz ki.
- b) \_\_\_\_\_ çok uzun yıllardır arkadaşız.
- c) Portakal sularını \_\_\_\_\_ sıktım.
- ç) Bu kağıdı en hızlı \_\_\_\_\_ kesebilirsin.
- d) \_\_\_\_\_ vatanını çok seven insanlarsınız.
- e) \_\_\_\_\_ , babasının anlattığına benzer şeyler söyledi.

S4.Sözcüklerle anlamlı ve kurallı bir cümle yazalım.

**vaktimizi - oyun - bütün - geçirdik - oynayarak**

S5.Karşılaştırma anlamı taşıyan cümleleri işaretleyelim.

- Senin peşinde koşmaktan canım çıktı.
- Bu kitaptaki soru sayısı diğerinden daha fazla.
- Evimiz beşik gibi sallanıyordu.
- Markette pek çok ürünü kolayca buluyorum.

S6.Parantez içlerine uygun noktalama işaretlerini koy.

- a) İstanbul ( ) da 15 Mart ( ) tan itibaren lokanta ve kafe( ) ler açılacaktı ( )
- b) Yangın bizim sokakta mı olmuş ( )
- c) Aaa ( ) Sen de mi buradaydın ( )

S7. Verilen sözcükleri alfabetik olarak sıralayalım.

**posta - karate - sauna - mavzer**

1. \_\_\_\_\_ 2. \_\_\_\_\_ 3. \_\_\_\_\_ 4. \_\_\_\_\_

S8. Yazım yanlışlarını düzelterek cümleyi yeniden yazalım.

**türkiye, karadeniz' de doğal gaz bulmaya çalışıyor?**

S9.Cümledeki özel ismin altını çizelim.

**Önce Emre'yle konuşup sonra kararını vermelisin.**

S10. Verilen cümlelerde , varlıkların özelliklerini belirten sıfatların ( ön ad ) altını çizelim. ( Nasıl?, Hangi?, Kaç?)

- a) Aç fareler ekinlere çok zarar verdi.
- b) Erkan, kırmızı kalemiğini bulamıyor.

S11.Cümlelerdeki eylemin ( fiilin ) altını çizelim.

- a) Dişlerini fırçalayacak günde üç defa.
- b) Ay yıldızlı bayrağım, gökyüzünü donatmış.

S12. Aşağıdaki tabloda belirtilen harfleri yazınız.

<b>p ile ü arasındaki harfler</b>	
-----------------------------------	--

S13. Verilen cümlelerde "-de " eki doğru yazılmışsa başına "D", yanlış yazılmışsa "Y" harfi yazalım.

- Aynı şekilde diğer resmi de boyadım.
- Sözlük de aradığım kelimeyi bulamıyorum.
- Biz de sizinle gelelim.

S14."Dedemin çiftliğinde atlara bindim."

cümlesine göre, aşağıdaki soruları cevaplayalım.

- a) Kim? : \_\_\_\_\_ c) Neye? : \_\_\_\_\_
- b) Nerede? : \_\_\_\_\_

## HAYAT BİLGİSİ

S1. Konuşmacılar hangi davranıştan rahatsız olmaz?

- a) Dinleyiciler yanındaki kişilerle konuştuğunda.
- b) Dinleyiciler sık sık konuyla alakasız sorular sorduğunda.
- c) Dinleyiciler söz alıp konuştuğunda.

● Selma, oyunu kaybettiğinde diğerlerine kızar.

◆ Fatih, istediklerini elde etmek için yalan söyleyebilir.

■ Mehmet, herkesle nazik bir şekilde iletişim kurar.

S2. Yukarıdaki davranışlardan doğru olan hangi sembol ile gösterilmiştir?

- a) ◆ b) ● c) ■

S3. Kişilerin ;

saçları

❖ yetenekleri

⌘ boy uzunlukları

İfadelerinden hangileri fiziksel özelliğimizi belirtir?

- a)  - ⌘ b) ❖ - ⌘ c)  - ❖

S4. Arkadaşımıza, evimizi tarif ederken hangi bilgiyi kesinlikle vermemez gerekir?

- a) Evimizin rengi
- b) Ev telefon numarası
- c) Ev adresi

S5. Aşağıdakilerden hangisi " kurum " değildir?

- a) Fırın b) Okul c) Belediye