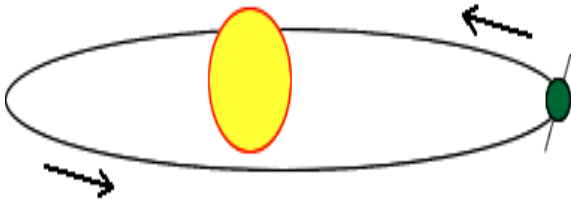
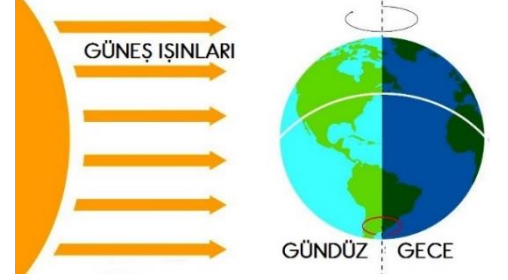


GÖREV 1- Metni sessiz okuma kurallarına dikkat ederek anlayana kadar okuyalım. Bir büyüğümüze sesli okuma kurallarına uyarak okuyalım ve anlatalım.

DÜNYA DÖNÜYOR

Dünya'nın iki türlü hareketi vardır. Hem kendi çevresinde hem de Güneş'in çevresinde döner.

1- Dünya sürekli olarak kendi çevresinde döner. Kendi çevresindeki bu dönüşünü bir günde yani 24 saatte tamamlar. Bu dönüşü ile gece ve gündüz oluşur. Güneş'in doğmasından batmasına kadar geçen süreye gündüz, Güneş'in batmasından doğmasına kadar geçen süreye gece denir.



2- Dünya kendi etrafında dönerken, aynı zamanda Güneş etrafında da döner. Güneş etrafındaki dönüşünü 365 gün 6 saatte yani bir yılda tamamlar. Böylece mevsimler oluşur.

GÖREV 2- Aşağıdaki cümleleri tamamlayalım.

Dünya'nın Güneş etrafında dönmesiyle.....
Dünya'nın kendi etrafında dönmesiyle.....
Dünya kendi çevresinde dönüşünüsaatte tamamlar.
Dünya etrafında dönüşünü 365 gün 6 saatte tamamlar.
Bir yıl ay,mevsim,..... gündür.
Mevsimler Dünya'nınetrafında dönmesiyle oluşur.
Bir mevsimdeay vardır.



GÖREV 3- Gece ve gündüzün oluşumu ile ilgili bir dörtlük yazın.

GÖREV 4- Gece ve gündüz oluşumunu bir deney yaparak görelim.



Malzemeler: Top, el feneri

Bu deney için bir arkadaşından yardım alabilirsin. Top Dünya, el feneri ise Güneş modelidir. Topun üstüne bir şekil çiz. Arkadaşın da feneri tutsun. Işık alan tarafta gündüz, karanlık tarafta gece yaşanır. Topu yavaş yavaş çevirirsen durum değişir.


GÖREV 5- Aşağıdaki açıklamayı matematik defterinize yazın.

TARTMA

Meyve, sebze, insan ve hayvanların bir kütlesi vardır. Bu kütleyi terazi, baskül, kantar gibi tartı araçları ile ölçeriz. Tartma yaparken **kilogram** ölçme birimini kullanırız.

Kilogram kısaca **kg** şeklinde yazılır.

Bir kilogram içinde 2 tane yarım kilogram vardır.



GÖREV 6- Aşağıdaki nesnelerin kütlelerini tartmak için hangi tartı araçlarını kullanırız.

2 paket pirinç	terazi
1 çuval fındık	
1 tabak tereyağ	
Ablamın kütlesi	
Bir avuç fıstık	
Bir sepet elma	
3 kap mercimek	



Kantar



Elektronik terazi



El terazisi



Baskül



El kantarı



Bakkal terazisi

GÖREV 7- Aşağıdaki problemleri matematik defterine yazın ve çözün.

- 1- Yasemin'in bir karışı 16 cm'dir. Yasemin masa örtüsünü 3 karış olarak ölçmüştür. Buna göre masa örtüsünün uzunluğu kaç cm'dir?
- 2- Annem alışveriş için 1 tane 20 TL, 2 tane 5 TL, 4 tane 50 Kr verdi. Paranın 18 TL'si ile tişört aldım. Kaç TL kaldı?
- 3- Yaz tatilinde 3 hafta 5 gün köyde kaldım. Köyde toplam kaç gün kaldım?
- 4- Sabah saat 9.00'da işe giden Ahmet Bey 7 saat sonra eve geldiğinde saat kaç olur?
- 5- 12 çeyrek elma kaç bütün elma eder?
- 6- Bir çıkarma işleminde çıkan 29, fark 37 ise eksilen kaçtır?

GÖREV 8- Aşağıdaki işlemleri matematik defterine yazın ve yapın.

$$\begin{array}{r} 32 \\ \underline{\quad} \\ \quad \end{array} \begin{array}{r} 4 \\ \underline{\quad} \\ \quad \end{array} \quad \begin{array}{r} 27 \\ \underline{\quad} \\ \quad \end{array} \begin{array}{r} 3 \\ \underline{\quad} \\ \quad \end{array} \quad \begin{array}{r} 15 \\ \underline{\quad} \\ \quad \end{array} \begin{array}{r} 3 \\ \underline{\quad} \\ \quad \end{array} \quad \begin{array}{r} 40 \\ \underline{\quad} \\ \quad \end{array} \begin{array}{r} 5 \\ \underline{\quad} \\ \quad \end{array} \quad \begin{array}{r} 40 \\ \underline{\quad} \\ \quad \end{array} \begin{array}{r} 5 \\ \underline{\quad} \\ \quad \end{array} \quad \begin{array}{r} 36 \\ \underline{\quad} \\ \quad \end{array} \begin{array}{r} 4 \\ \underline{\quad} \\ \quad \end{array} \quad \begin{array}{r} 20 \\ \underline{\quad} \\ \quad \end{array} \begin{array}{r} 5 \\ \underline{\quad} \\ \quad \end{array} \quad \begin{array}{r} 12 \\ \underline{\quad} \\ \quad \end{array} \begin{array}{r} 4 \\ \underline{\quad} \\ \quad \end{array}$$