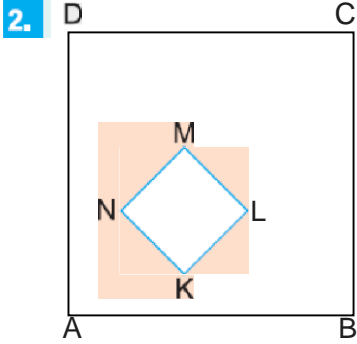


ABCD ve BEFK birer kare. $|AK| = 10$ cm olduğuna göre, karelerin alanları toplamı kaç cm² dir?

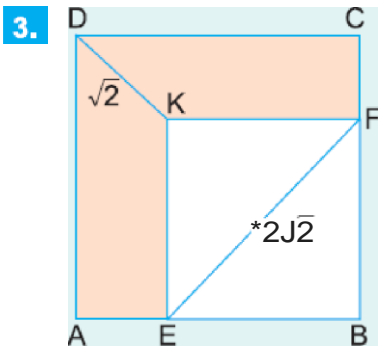
- A) 50 B) 60 C) 80 D) 100 E) 120



ABCD ve KLMN birer kare
 $|AB| = |KL| = 5$ cm

Yukandaki şekilde taralı bölgenin alanı 45 cm² olduğuna göre, Çevre(ABCD) kaç cm dir?

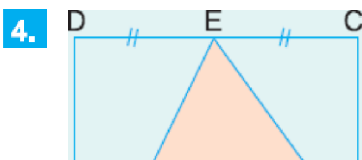
- A) 20 B) 24 C) 28 D) 32 E) 36



ABCD ve EBFK birer kare
 $|AB| = |EB| = 18$ cm
 $|DK| = \sqrt{2}$ cm

Yukandaki verilere göre, taralı bölgenin alanı kaç cm² dir?

- A) 3 B) 4 C) 5 D) 6 E) 7



ABCD bir kare
 $|DE| = |EC|$
 $|CF| = 2|FB|$

$A(\widehat{EAF}) = 15 \text{ cm}^2$

A) 25 B) 36 C) 49 D) 64 E) 81

www.derskitabicevaplari.com

Cevaplar :

1)D, 2)C, 3)C, 4)B,