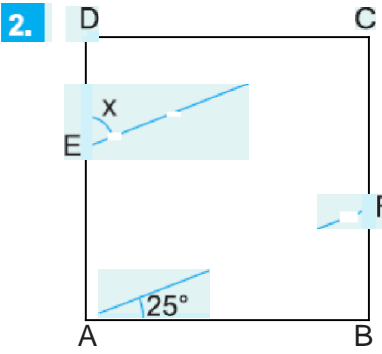


ABCD bir kare
 FAB eşkenar üçgen
 $m(\text{DEC}) = x$

Yukandaki verilere göre, x kaç derecedir?

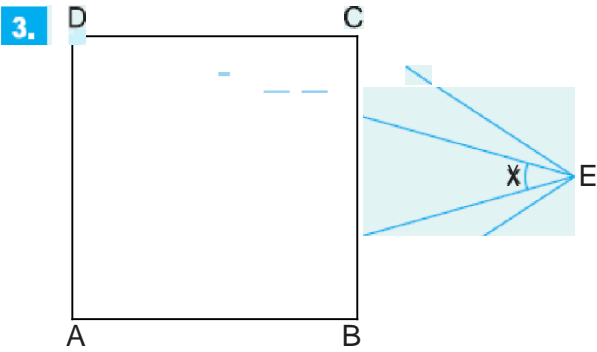
- A) 60 B) 65 C) 72 D) 70 E) 75



ABCD bir kare
 $[CE] \parallel [AF]$
 $m(\text{FAB}) = 25^\circ$

Yukandaki verilere göre, $m(\text{DEC}) = x$ kaç derecedir?

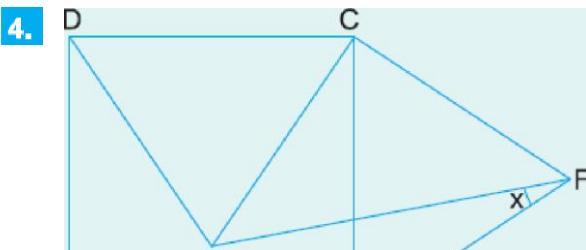
- A) 55 B) 60 C) 65 D) 70 E) 75




ABCD bir kare
 ECB eşkenar
 üçgen ve
 $m(\text{DEA}) = x$

olduğuna göre, x kaç derecedir?

- A) 15 B) 20 C) 25 D) 30 E) 36



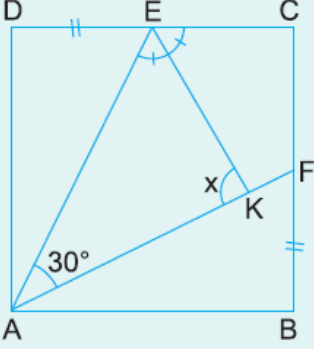
ABCD bir kare
 EDC ve CBF
 birer eşkenar
 üçgendir.



Buna göre, $m(\widehat{EFB}) = x$ kaç derecedir?

- A) 10 B) 15 C) 20 D) 22,5 E) 25

5.

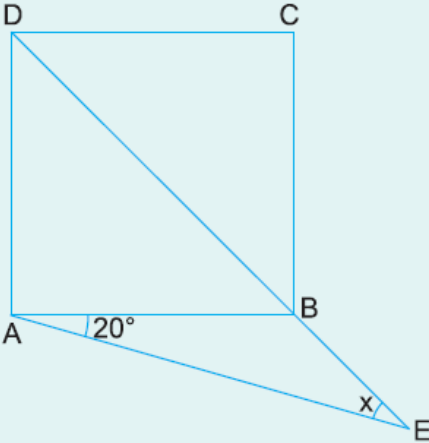


ABCD bir kare
 $|DE| = |BF|$
 $[EK]$ açıortay
 $m(\widehat{EAF}) = 30^\circ$

Yukarıdaki verilere göre, $m(\widehat{EKA}) = x$ kaç derecedir?

- A) 60 B) 70 C) 75 D) 80 E) 90

6.



ABCD bir kare
 $m(\widehat{BAE}) = 20^\circ$
 $m(\widehat{AED}) = x$

Yukarıdaki verilere göre, x kaç derecedir?

- A) 30 B) 25 C) 20 D) 15 E) 10