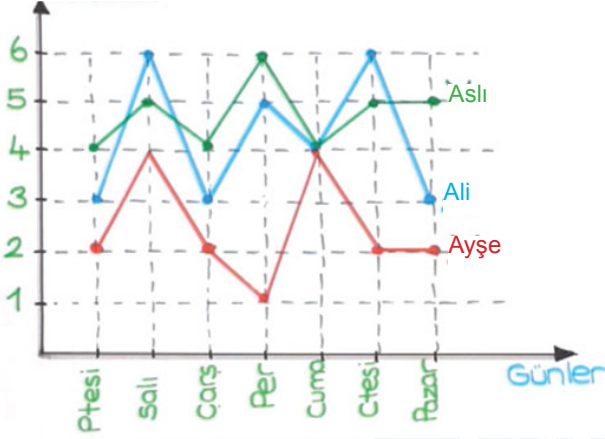


VERİ ANALİZİ

1. İŞYERİNDE KALDIKLARI SÜRE (SAAT)

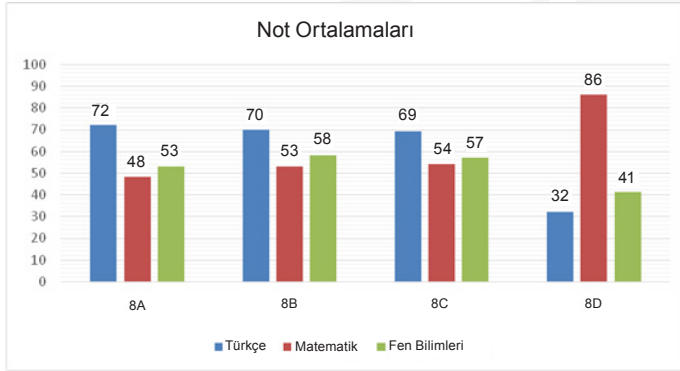


Şekilde aynı işyerinde çalışan üç kişinin günlere göre işyerinde kaldıkları süre (saat olarak) verilmiştir.

Bu grafiğe göre aşağıda verilen bilgilerden hangisi yanlıştır?

- A) Aslı'nın işyerinde kalma ortalaması diğerlerine göre daha fazladır.
- B) Cuma günü hepsinin işyerinde kalma süreleri aynıdır.
- C) Cuma günü hepsi aynı anda işyerinden çıkmıştır.
- D) Cumartesi Aslı ile Ali'nin işyerinde kalma süresi artmış, Ayşe'nin ise azalmıştır.

2.

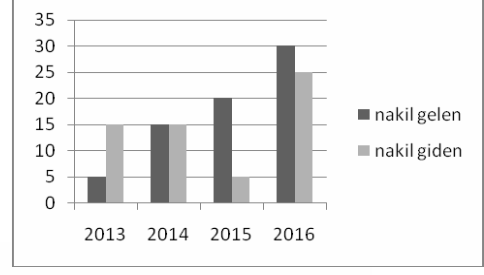


Okulumuzun 8.sınıfları arasında yapılan bir araştırmaya göre Matematik, Türkçe ve Fen ve Teknoloji derslerindeki not ortalamaları grafikteki sütunların üzerindeki gibidir.

Bu derslerin ağırlıklı ortalaması, 60 ve üstü olan sınıflar başarılı sayıldığına göre kaç sınıf başarılıdır?

- A) 1
- B) 2
- C) 3
- D) 4

3.

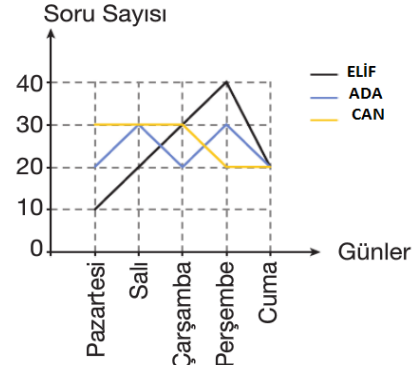


Yukarıdaki grafikte bir ortaokuldaki yıllara ait nakil gelen ve nakil giden öğrenci sayıları belirtilmiştir.

Bu grafiğe göre en fazla nakil gelen öğrenci sayısı hangi yılda olmuştur?

- A) 2013
- B) 2014
- C) 2015
- D) 2016

4. Grafik: Öğrencilerin günlere göre çözdüğü soru sayısı



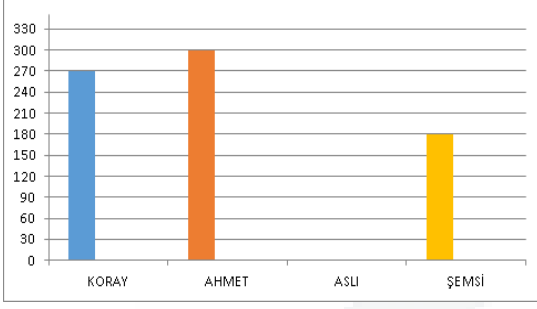
Yukarıdaki grafikte Elif, Ada ve Can'ın günlere göre çözdüğü soru sayısı verilmiştir.

Bu grafiğe göre Elif, Ada ve Can'ın beş günde çözdüğü soru sayılarının ortalamaları toplamı kaçtır?

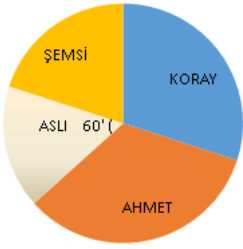
- A) 74
- B) 76
- C) 78
- D) 80

VERİ ANALİZİ

5. Grafik: Dört kişinin gittikleri öğle yemeğinde aldıkları kalori miktarları verilmiştir.



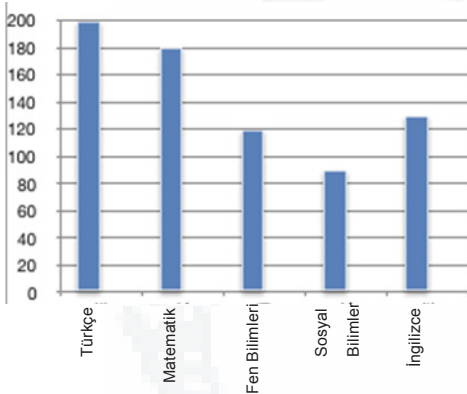
Grafik: Alınan kalori miktarının dağılımı gösterilmiştir.



Her iki grafiğe göre Aslı bu öğle yemeğinde kaç kalori almıştır?

- A) 120 B) 150 C) 180 D) 210

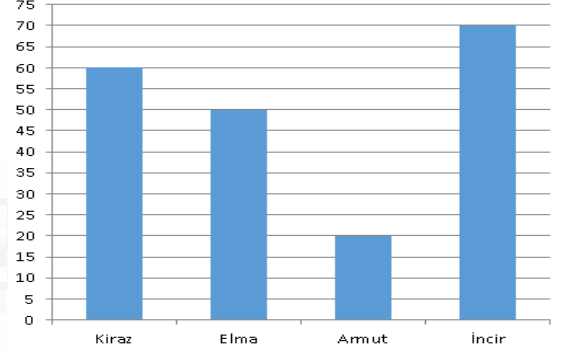
6. Aşağıdaki sütun grafiğinde bir soru bankasında bulunan soruların derslere göre dağılımı verilmiştir.



Bu soru bankasında bulunan soruların derslere göre dağılımı daire grafiği ile gösterilecek olursa aşağıdaki daire dilimlerinden birinin açısı olamaz?

- A) 45 B) 90 C) 100 D) 120

7. Aşağıda bir manavda satılan meyveler ve buldukları kasa sayıları sütun grafiği ile verilmiştir.



Grafik: Meyve kasaları sayısı

Verilen sütun grafiği daire grafiği olarak aşağıdakilerden hangisi biçiminde ifade edilir?

- A)
- B)
- C)
- D)

8. Aşağıdakilerden hangisini çizgi grafiği ile göstermek daha uygundur?

- A) Oto galeride satılan araçların dağılımı
B) Futbolcunun maçlarda oynadığı süre dağılımı
C) İlçede saatlere göre sıcaklık değişimi
D) Markete bir gün içerisinde gelen 600 müşterinin alışveriş sürelerinin dağılımı